



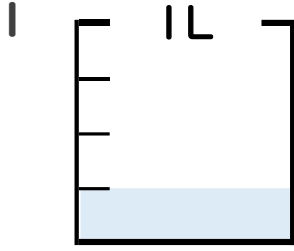
分数 4

● 分数の水のかさの読み取り

5

日にち： 月 日

名まえ _____

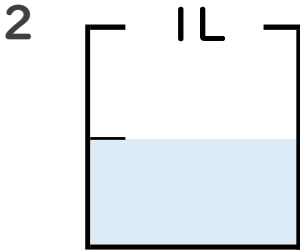


① 図の水のかさは1めもりの何こ分ですか？

_____ 半分

② 水のかさは、何Lですか？

_____ L

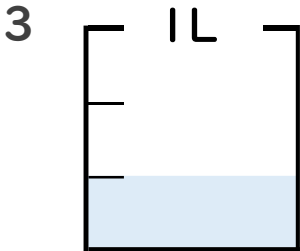


① 図の水のかさは1めもりの何こ分ですか？

_____ 2分

② 水のかさは、何Lですか？

_____ L

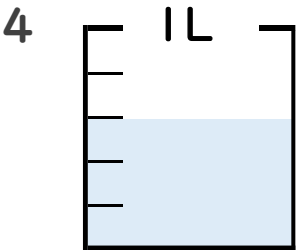


① 図の水のかさは1めもりの何こ分ですか？

_____ 3分

② 水のかさは、何Lですか？

_____ L

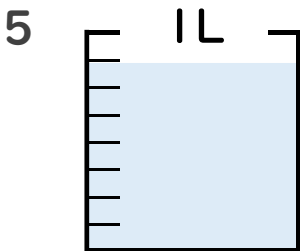


① 図の水のかさは1めもりの何こ分ですか？

_____ 4分

② 水のかさは、何Lですか？

_____ L



① 図の水のかさは1めもりの何こ分ですか？

_____ 5分

② 水のかさは、何Lですか？

_____ L





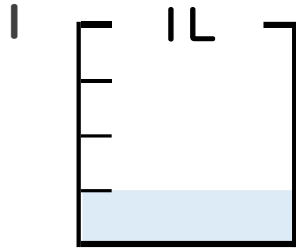
分数 4

● 分数の水のかさの読み取り

5

日にち： 月 日

名まえ _____

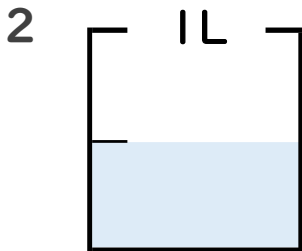


① 図の水のかさは1めもりの何こ分ですか？

1 共分

② 水のかさは、何Lですか？

$\frac{1}{4}$ L

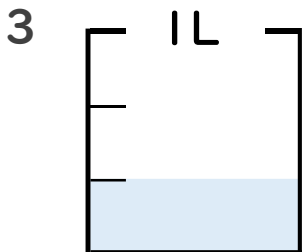


① 図の水のかさは1めもりの何こ分ですか？

1 共分

② 水のかさは、何Lですか？

$\frac{1}{2}$ L

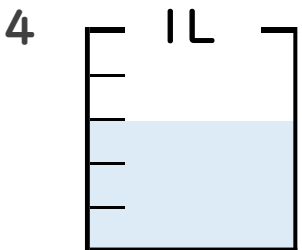


① 図の水のかさは1めもりの何こ分ですか？

1 共分

② 水のかさは、何Lですか？

$\frac{1}{3}$ L

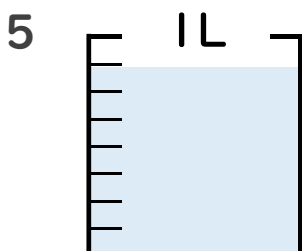


① 図の水のかさは1めもりの何こ分ですか？

3 共分

② 水のかさは、何Lですか？

$\frac{3}{5}$ L



① 図の水のかさは1めもりの何こ分ですか？

7 共分

② 水のかさは、何Lですか？

$\frac{7}{8}$ L

