



円と球 4

◎ 半径の長さから円をかく

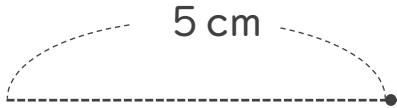


日にち： 月 日

名まえ _____

・コンパスを使って、次の円をかきましょう。

① 半径が 5 cm の円



② 半径が 3 cm の円





円と球 4

● 半径の長さから円をかく

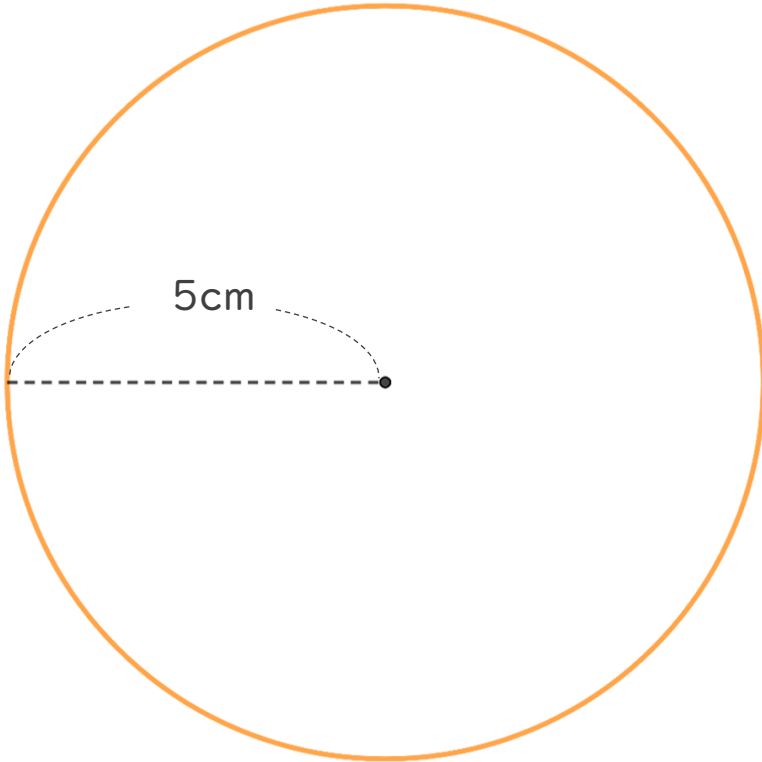


日にち： 月 日

名まえ _____

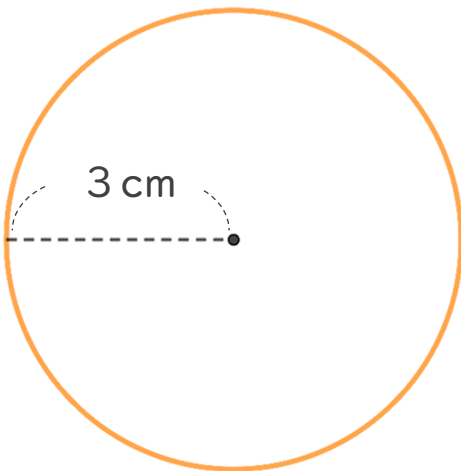
・コンパスを使って、次の円をかきましょう。

① 半径が 5 cm の円



かいた円の直径が
10cmになっているか
チェックしよう！

② 半径が 3 cm の円



かいた円の直径が
6cmになっているか
チェックしよう！

