



# 小数の意味と表し方7

● 小数で表す1cmより短い長さ

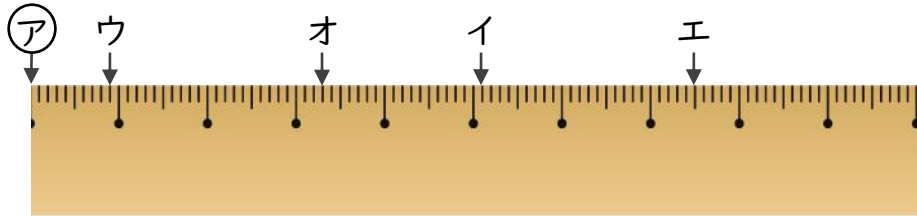


日にち：            月            日

名まえ \_\_\_\_\_

・アからイ、ウ、エ、オまでの長さは、それぞれ何cmですか。  
(うすい字はなぞりましょう。)

①

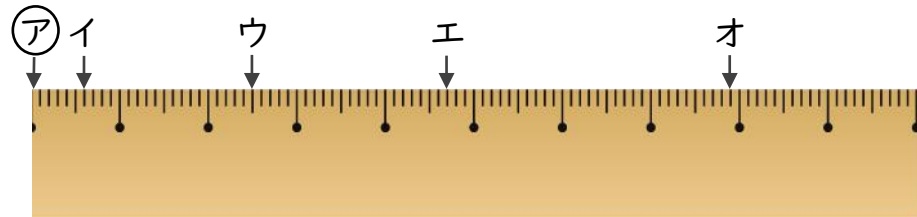


答え    アからイ    5.1    cm            アからウ

          アからエ                                    アからオ

---

②



答え    アからイ                                    アからウ

          アからエ                                    アからオ

---



# 小数の意味と表し方7

● 小数で表す1cmより短い長さ

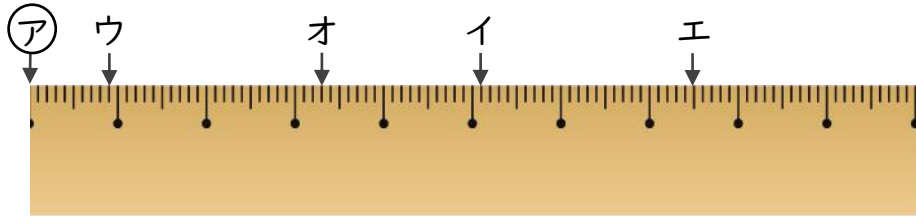


日にち：            月            日

名まえ \_\_\_\_\_

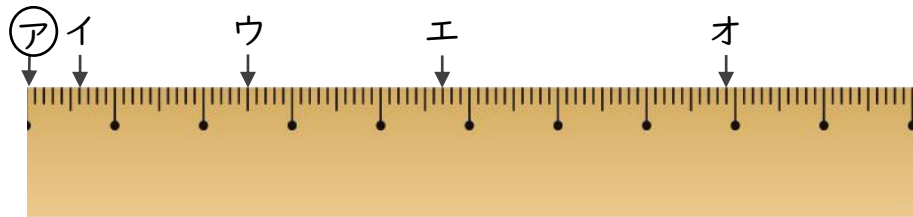
・アからイ、ウ、エ、オまでの長さは、それぞれ何cmですか。  
(うすい字はなぞりましょう。)

①



答え    アからイ    **5.1 cm**            アからウ    **0.9 cm**  
           アからエ    **7.5 cm**            アからオ    **3.3 cm**

②



答え    アからイ    **0.6 cm**            アからウ    **2.5 cm**  
           アからエ    **4.7 cm**            アからオ    **7.9 cm**