



小数の意味と表し方II

● 小数の位置を数直線へ書きこむ



日にち： 月 日

名まえ _____

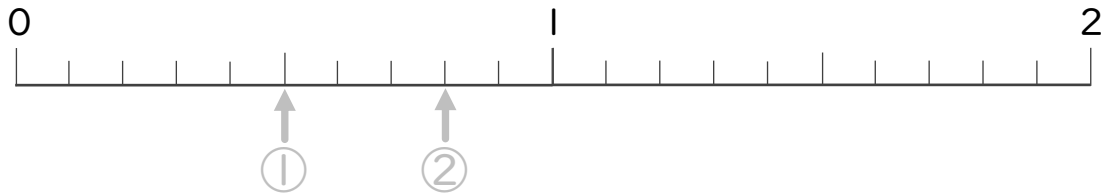
・ 次の数を表すめもりに ↑ を書きましょう。
(うすい字はなぞりましょう。)

① 0.5

② 0.8

③ 1.5

④ 1.8



⑤ 1.6

⑥ 0.7

⑦ 0.4

⑧ 0.1



⑨ 1.5

⑩ 0.6

⑪ 1.8

⑫ 0.2





小数の意味と表し方 II

● 小数の位置を数直線へ書きこむ



日にち： 月 日

名まえ _____

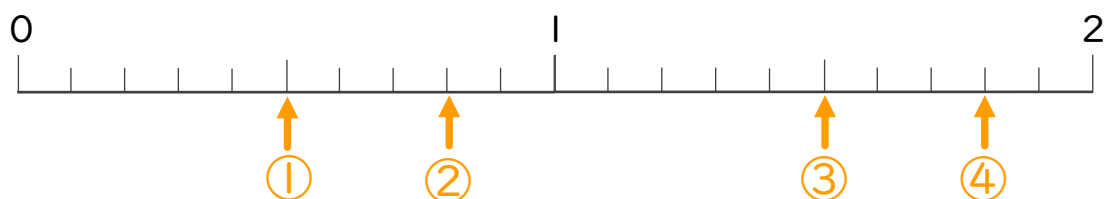
・ 次の数を表すメモリに ↑ を書きましょう。
(うすい字はなぞりましょう。)

① 0.5

② 0.8

③ 1.5

④ 1.8

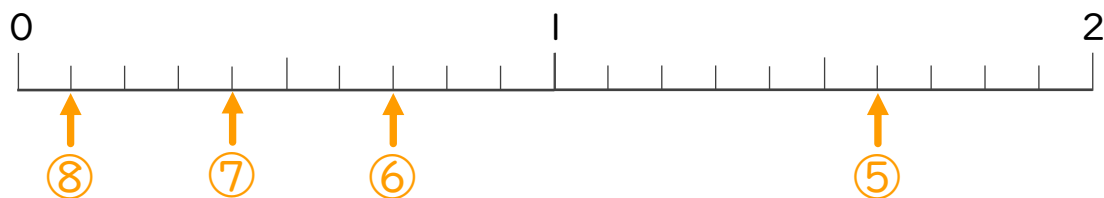


⑤ 1.6

⑥ 0.7

⑦ 0.4

⑧ 0.1



⑨ 1.5

⑩ 0.6

⑪ 1.8

⑫ 0.2

