



□を使った式 10

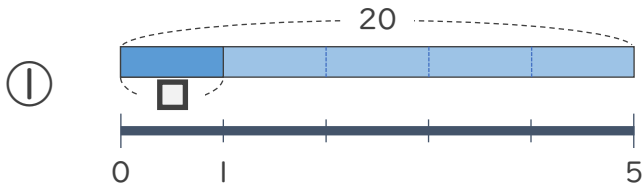
● 数 ÷ □ の
□ をもとめる計算



日にち： 月 日

名まえ _____

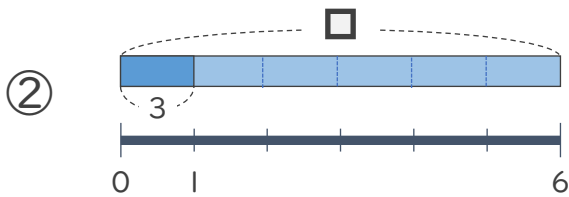
・ □ にあてはまる数をもとめましょう。(うすい字はなぞりましょう)



$$20 \div \square = 5$$

$$\square = 20 \div 5$$

$$\square =$$



$$\square \div 6 = 3$$

$$\square = 3 \times 6$$

$$\square =$$



□を使った式 10

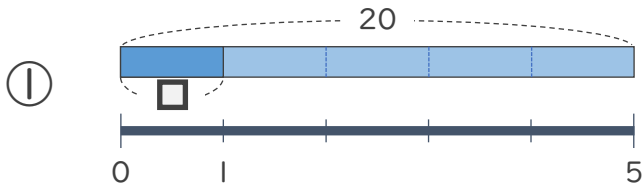
● 数 ÷ □ の
□ をもとめる計算



日にち： 月 日

名まえ _____

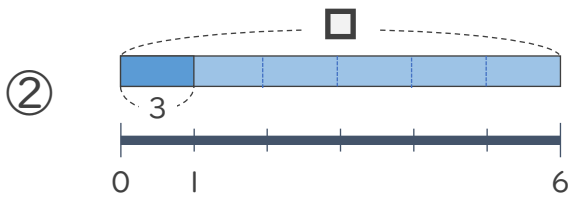
- にあてはまる数をもとめましょう。(うすい字はなぞりましょう)



$$20 \div \square = 5$$

$$\square = 20 \div 5$$

$$\square = 4$$



$$\square \div 6 = 3$$

$$\square = 3 \times 6$$

$$\square = 18$$