



小数の意味と表し方 10

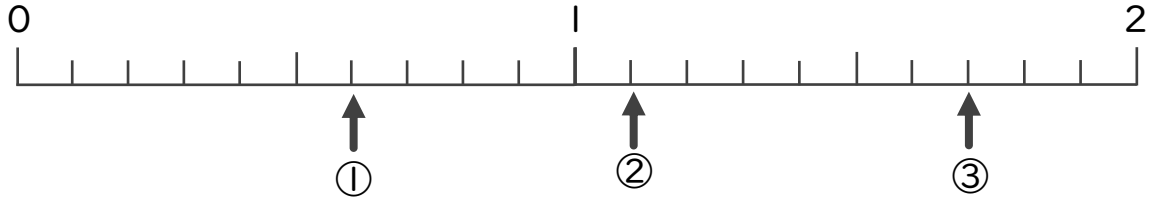
● 数直線の小数の読みとり



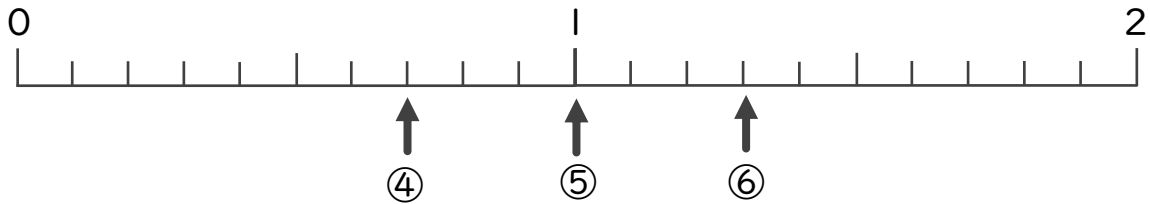
日にち： 月 日

名まえ _____

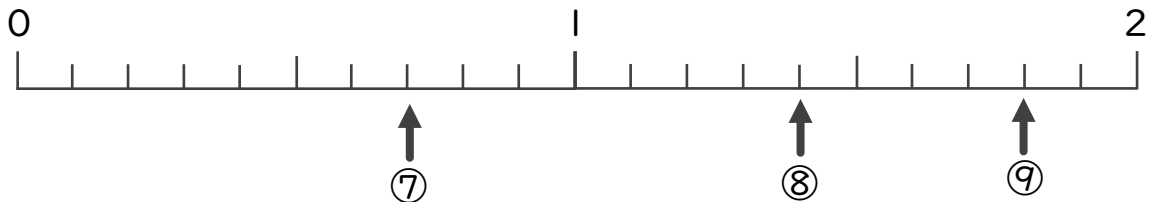
・ 下の数直線を見て ↑ のめもりが表す数を書きましょう。
(うすい字はしっかりなぞりましょう。)



① 0.6 ② 1.1 ③



④ ⑤ ⑥



⑦ ⑧ ⑨



小数の意味と表し方 10

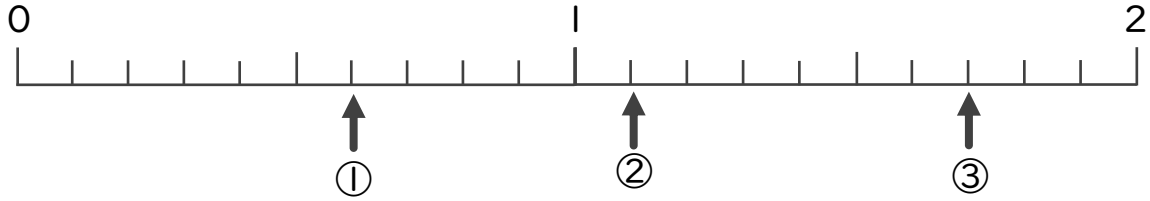
数直線の小数の読みとり



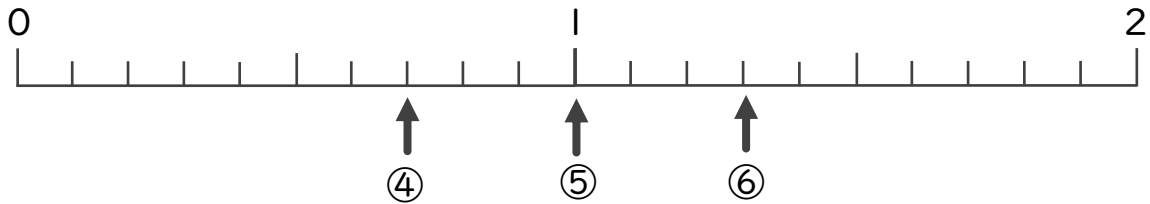
日にち： 月 日

名まえ _____

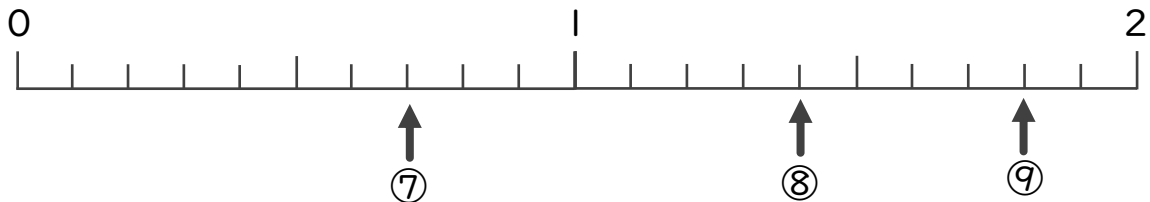
・下の数直線を見て ↑ のめもりが表す数を書きましょう。
(うすい字はしっかりなぞりましょう。)



① 0.6 ② 1.1 ③ 1.7



④ 0.7 ⑤ 1 ⑥ 1.3



⑦ 0.7 ⑧ 1.4 ⑨ 1.8