



## □を使った式 8

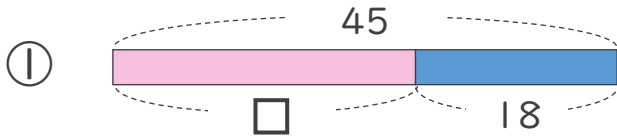
● 数-□の□を  
もとめる計算



日にち：            月            日

名まえ \_\_\_\_\_

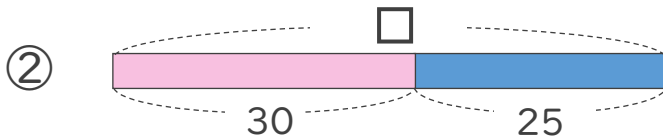
- にあてはまる数をもとめましょう。(うすい字はなぞりましょう)



$$45 - \square = 18$$

$$\square = 45 - 18$$

$$\square =$$



$$\square - 30 = 25$$

$$\square = 25 + 30$$

$$\square =$$



## □を使った式 8

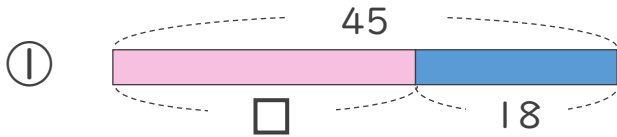
● 数-□の□を  
もとめる計算



日にち：            月            日

名まえ \_\_\_\_\_

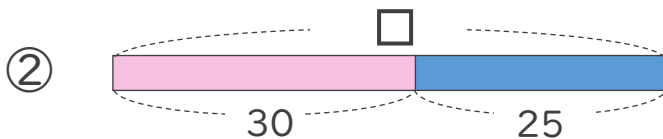
- にあてはまる数をもとめましょう。(うすい字はなぞりましょう)



$$45 - \square = 18$$

$$\square = 45 - 18$$

$$\square = 27$$



$$\square - 30 = 25$$

$$\square = 25 + 30$$

$$\square = 55$$

