



□を使った式 8

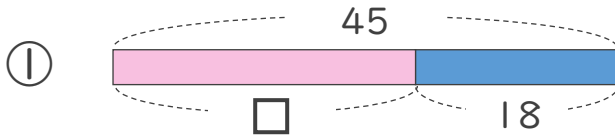
● 数-□の□を
もとめる計算



日にち： 月 日

名まえ _____

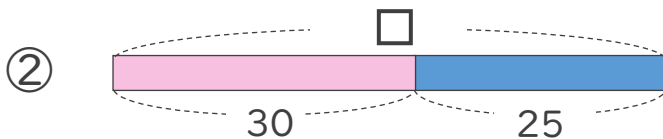
- にあてはまる数をもとめましょう。(うすい字はなぞりましょう)



$$45 - \square = 18$$

$$\square = 45 - 18$$

$$\square =$$



$$\square - 30 = 25$$

$$\square = 25 + 30$$

$$\square =$$



□を使った式 8

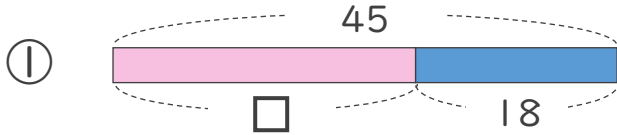
● 数-□の□を
もとめる計算



日にち： 月 日

名まえ _____

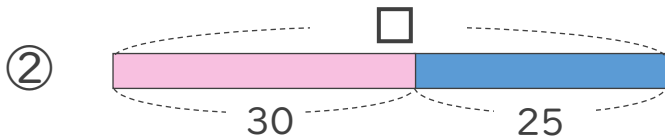
・ □にあてはまる数をもとめましょう。(うすい字はなぞりましょう)



$$45 - \square = 18$$

$$\square = 45 - 18$$

$$\square = 27$$



$$\square - 30 = 25$$

$$\square = 25 + 30$$

$$\square = 55$$