



# 時こくと時間の もとめかた 8

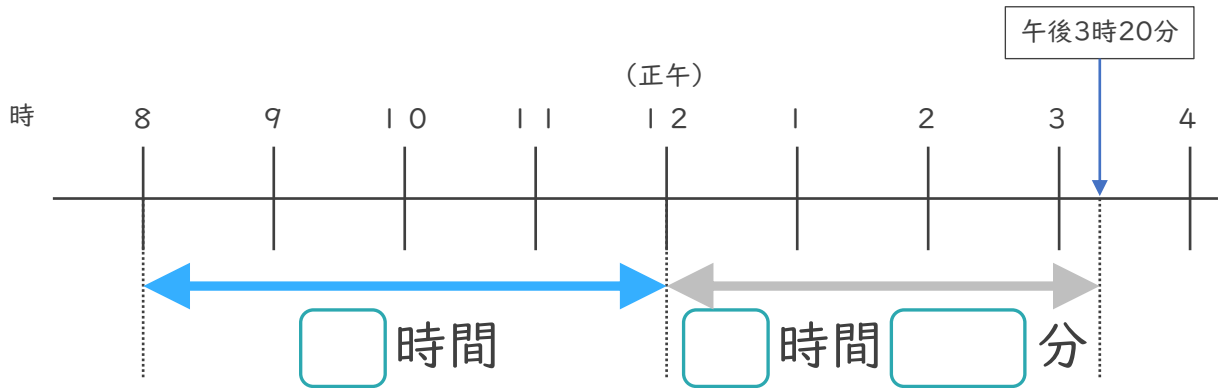


◎ 正午をはさむ計算

日にち： 月 日

名まえ \_\_\_\_\_

1 午前8時から午後3時20分までの時間をもとめます。

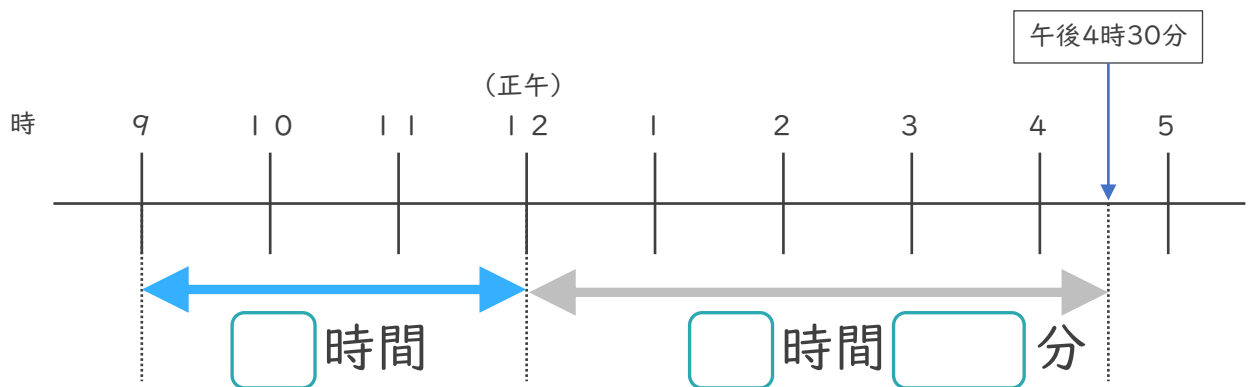


①  にあてはまる数を書きましょう。

② 午前8時から午後3時20分までの時間は何時間何分ですか。

答え ( )

2 午前9時から午後4時30分までの時間をもとめます。



①  にあてはまる数を書きましょう。

② 午前9時から午後5時50分までの時間は何時間何分ですか。

答え ( )





# 時こくと時間の もとめかた 8

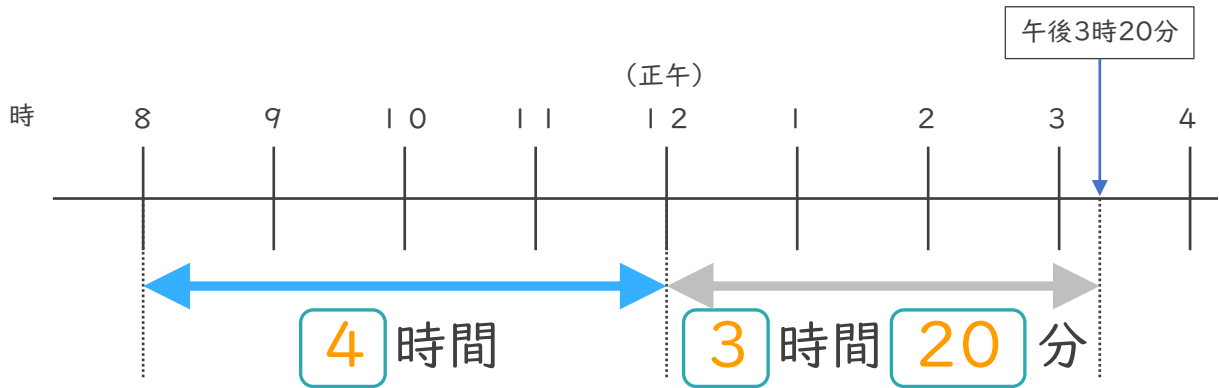
# 5

正午をはさむ計算

日にち： 月 日

名まえ \_\_\_\_\_

1 午前8時から午後3時20分までの時間をもとめます。

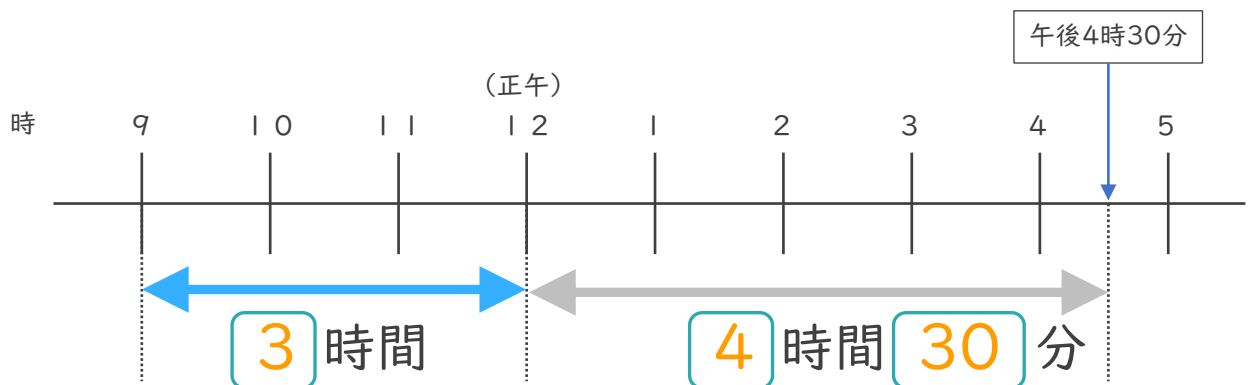


①  にあてはまる数を書きましょう。

② 午前8時から午後3時20分までの時間は何時間何分ですか。

答え ( **7 時間 20 分** )

2 午前9時から午後4時30分までの時間をもとめます。



①  にあてはまる数を書きましょう。

② 午前9時から午後5時50分までの時間は何時間何分ですか。

答え ( **7 時間 30 分** )

