



時こくと時間の  
もとめかた 8

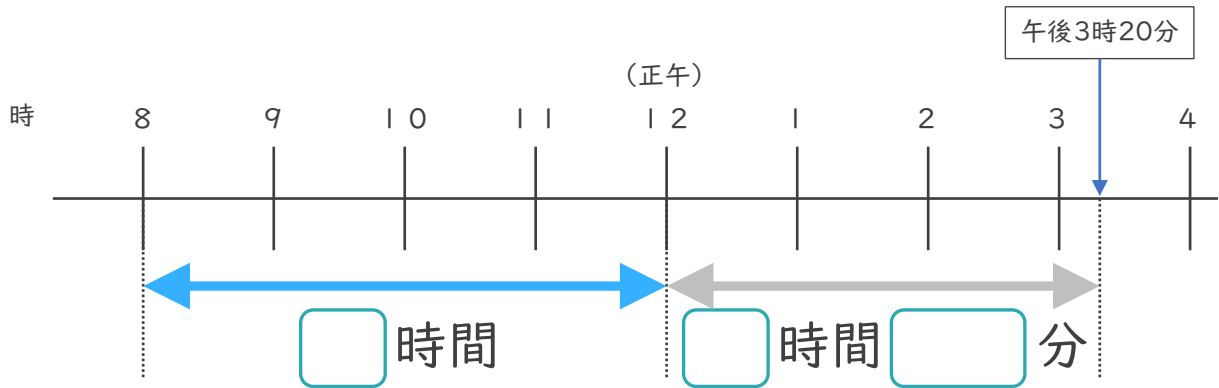


正午をはさむ計算

日にち： 月 日

名まえ \_\_\_\_\_

1 午前8時から午後3時20分までの時間をもとめます。

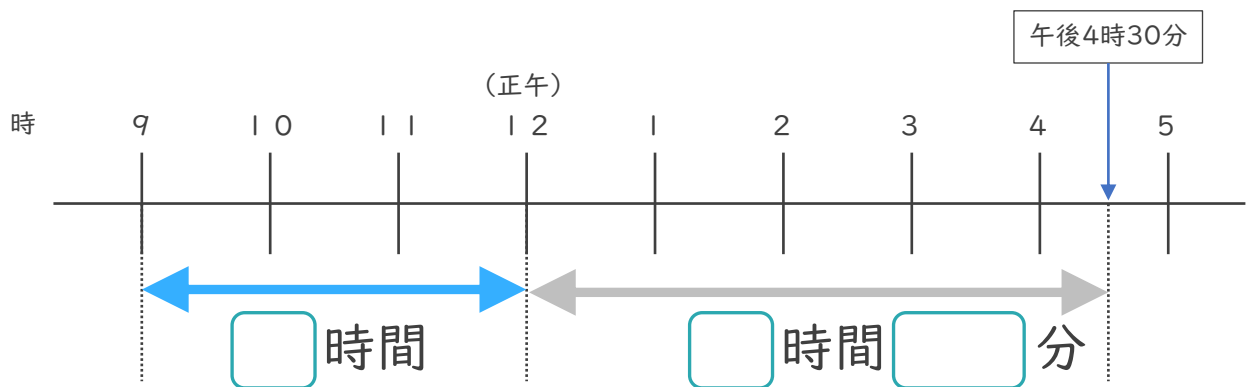


① □ にあてはまる数を書きましょう。

② 午前8時から午後3時20分までの時間は何時間何分ですか。

答え ( )

2 午前9時から午後4時30分までの時間をもとめます。



① □ にあてはまる数を書きましょう。

② 午前9時から午後5時50分までの時間は何時間何分ですか。

答え ( )





時こくと時間の  
もとめかた 8

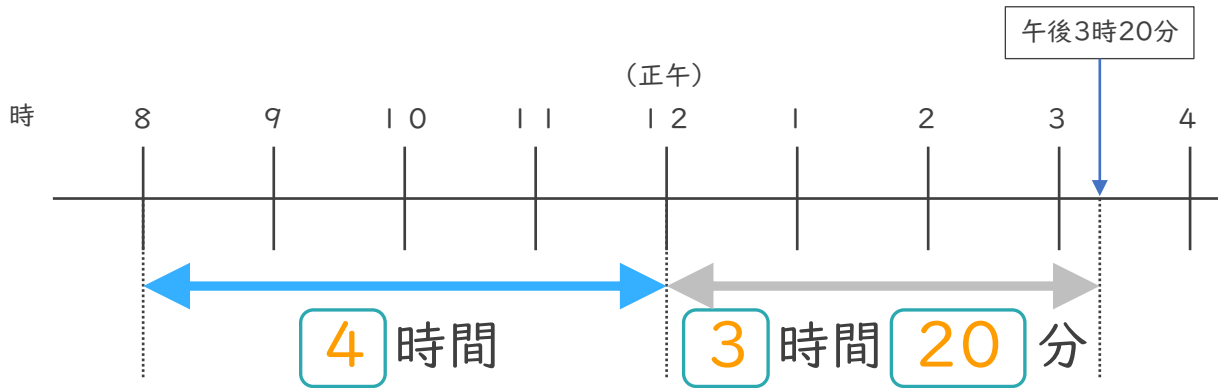


● 正午をはさむ計算

日にち：            月            日

名まえ \_\_\_\_\_

1 午前8時から午後3時20分までの時間をもとめます。

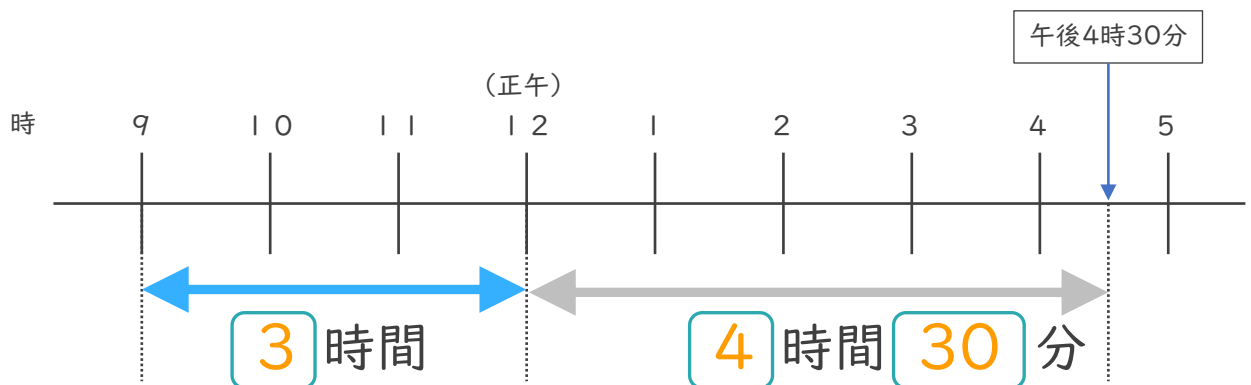


①  にあてはまる数を書きましょう。

② 午前8時から午後3時20分までの時間は何時間何分ですか。

答え (            7 時間 2 0 分            )

2 午前9時から午後4時30分までの時間をもとめます。



①  にあてはまる数を書きましょう。

② 午前9時から午後5時50分までの時間は何時間何分ですか。

答え (            7 時間 3 0 分            )

