



# 分数 8

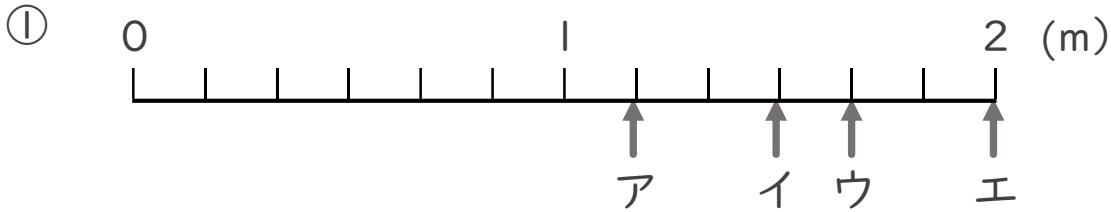
1より大きい分数を  
数直線に表す



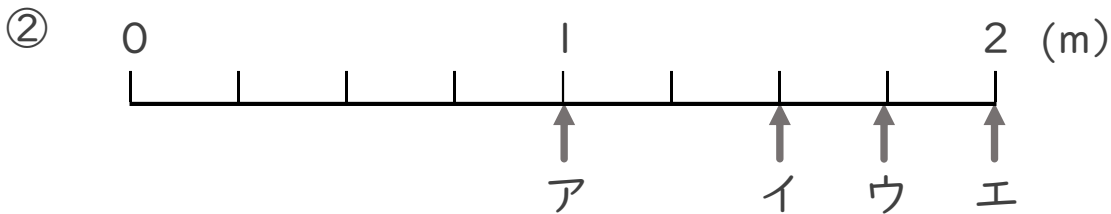
日にち： 月 日

名まえ \_\_\_\_\_

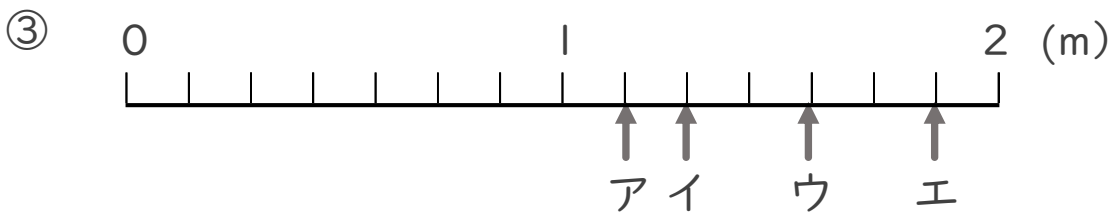
- ア～エのめもりが表す長さは、それぞれ何mですか。  
(うすい字はなぞりましょう。)



答え ア  $\frac{7}{6}$  m イ \_\_\_\_\_ m ウ \_\_\_\_\_ m エ \_\_\_\_\_ m



答え ア \_\_\_\_\_ m イ \_\_\_\_\_ m ウ \_\_\_\_\_ m エ \_\_\_\_\_ m



答え ア \_\_\_\_\_ m イ \_\_\_\_\_ m ウ \_\_\_\_\_ m エ \_\_\_\_\_ m



分数 8

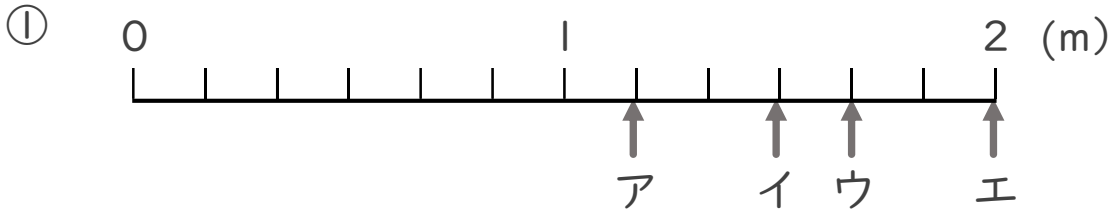
1より大きい分数を数直線に表す



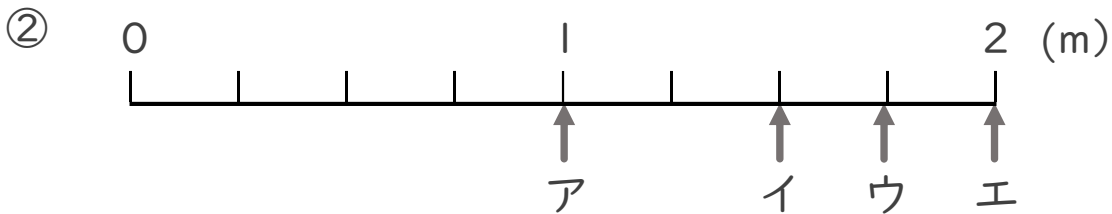
日にち： 月 日

名まえ

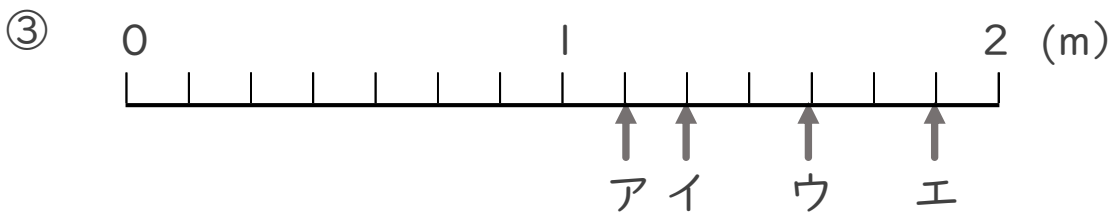
- ア～エのめもりが表す長さは、それぞれ何mですか。  
(うすい字はなぞりましょう。)



答え ア  $\frac{7}{6}$  m イ  $\frac{9}{6}$  m ウ  $\frac{10}{6}$  m エ 2 m



答え ア 1 m イ  $\frac{6}{4}$  m ウ  $\frac{7}{4}$  m エ 2 m



答え ア  $\frac{8}{7}$  m イ  $\frac{9}{7}$  m ウ  $\frac{11}{7}$  m エ  $\frac{13}{7}$  m