



分数 8

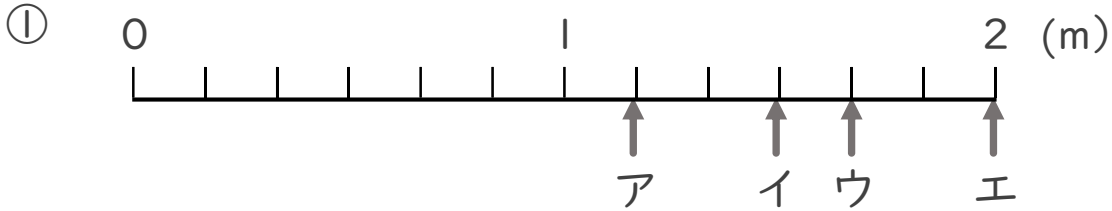
1より大きい分数を
数直線に表す



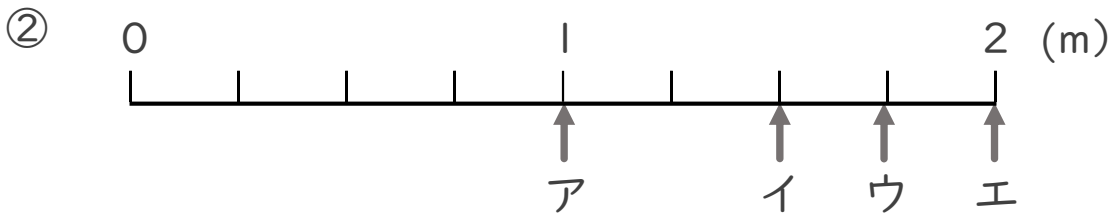
日にち： 月 日

名まえ _____

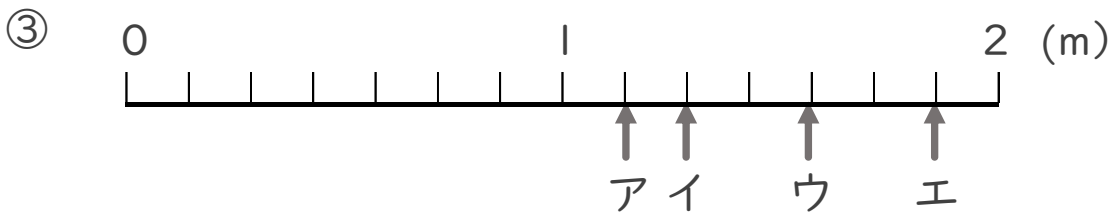
- ア～エのめもりが表す長さは、それぞれ何mですか。
(うすい字はなぞりましょう。)



答え ア $\frac{7}{6}$ m イ m ウ m エ m



答え ア m イ m ウ m エ m



答え ア m イ m ウ m エ m



分数 8

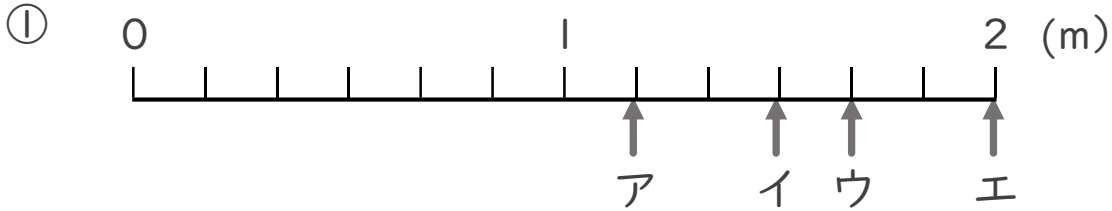
● 1より大きい分数を
数直線に表す



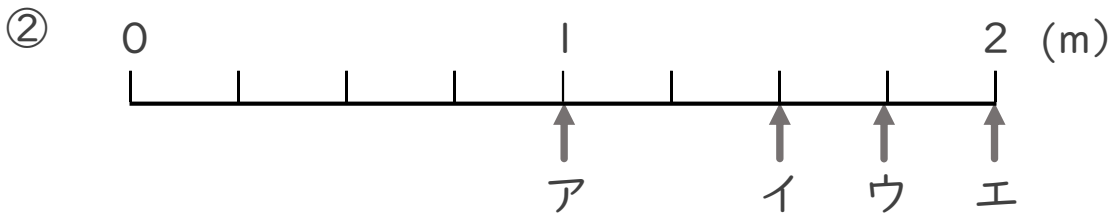
日にち： 月 日

名まえ _____

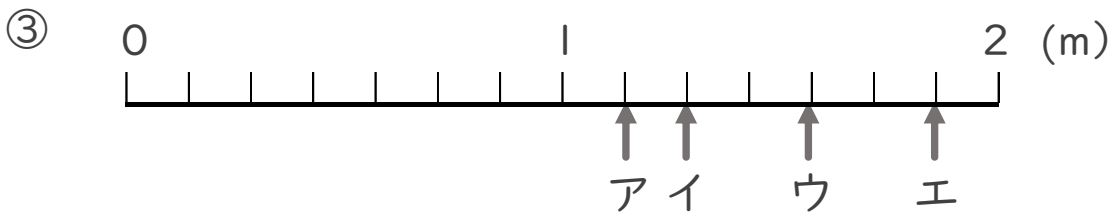
- ア～エのめもりが表す長さは、それぞれ何mですか。
(うすい字はなぞりましょう。)



答え ア $\frac{7}{6}$ m イ $\frac{9}{6}$ m ウ $\frac{10}{6}$ m エ 2 m



答え ア 1 m イ $\frac{6}{4}$ m ウ $\frac{7}{4}$ m エ 2 m



答え ア $\frac{8}{7}$ m イ $\frac{9}{7}$ m ウ $\frac{11}{7}$ m エ $\frac{13}{7}$ m