



分数 7

● 1より小さい分数を
数直線に表す

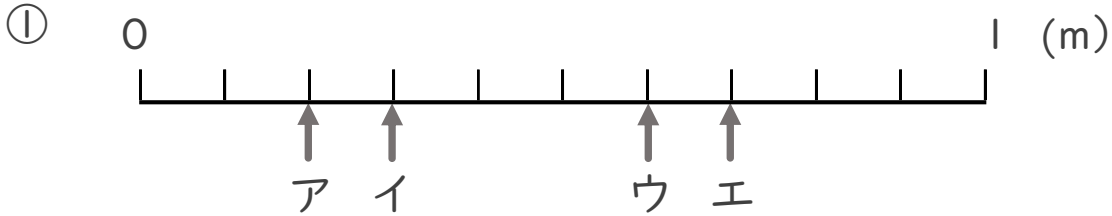


日にち： 月 日

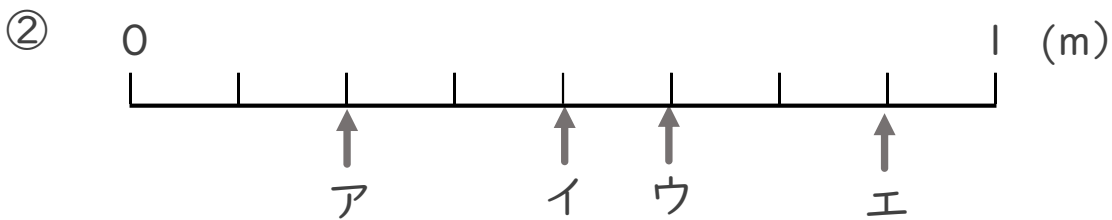
名まえ _____

- ア～エのめもりが表す長さは、それぞれ何mですか。

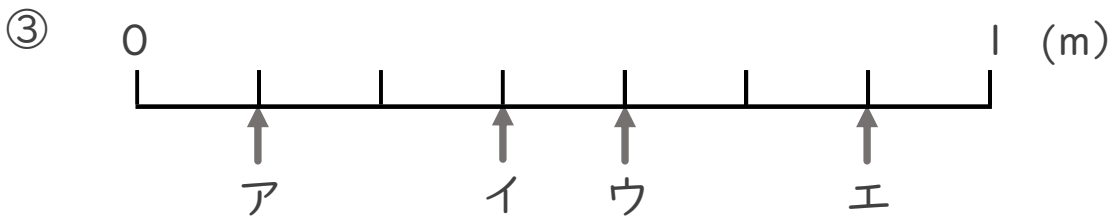
(うすい字はなぞりましょう。)



答え ア $\frac{2}{10}$ m イ _____ m ウ _____ m エ _____ m



答え ア _____ m イ _____ m ウ _____ m エ _____ m



答え ア _____ m イ _____ m ウ _____ m エ _____ m



分数 7

● 1より小さい分数を
数直線に表す

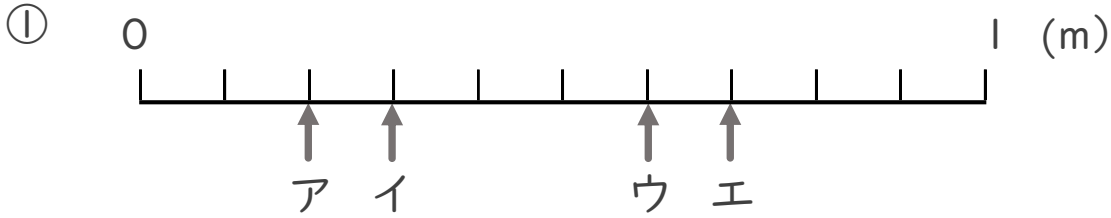


日にち： 月 日

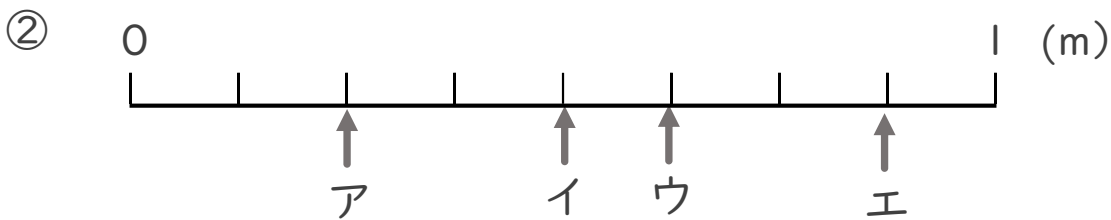
名まえ _____

- ア～エのめもりが表す長さは、それぞれ何mですか。

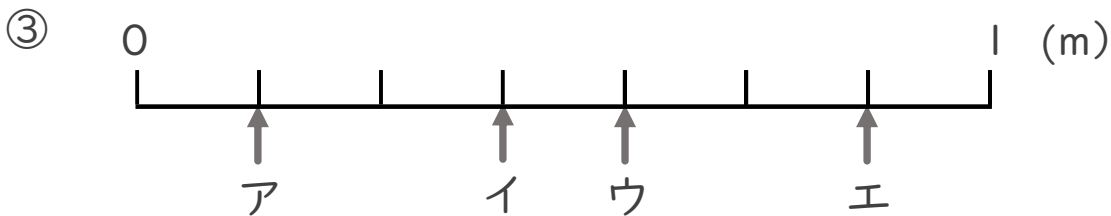
(うすい字はなぞりましょう。)



答え ア $\frac{2}{10}$ m イ $\frac{3}{10}$ m ウ $\frac{6}{10}$ m エ $\frac{7}{10}$ m



答え ア $\frac{2}{8}$ m イ $\frac{4}{8}$ m ウ $\frac{5}{8}$ m エ $\frac{7}{8}$ m



答え ア $\frac{1}{7}$ m イ $\frac{3}{7}$ m ウ $\frac{4}{7}$ m エ $\frac{6}{7}$ m