



かけ算の筆算 1

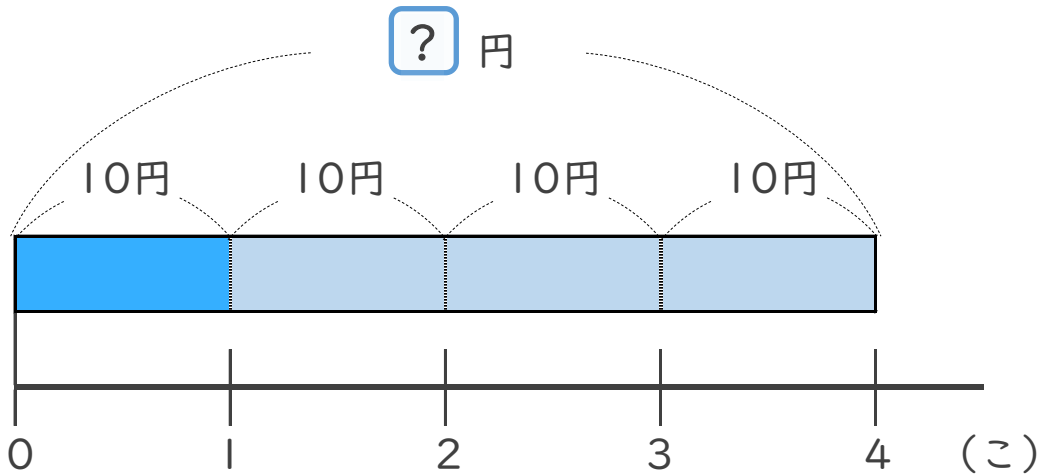
● 30 円のガムを
4 こ買った代金



日にち： 月 日

名まえ _____

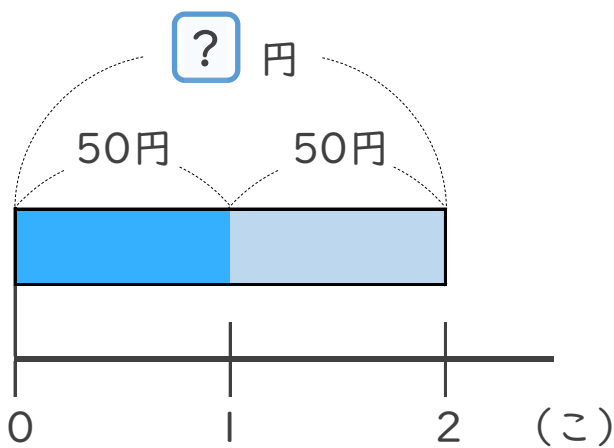
- 1 | 1こ10円のチョコを、4こ買います。代金はいくらですか。
(うすい字は、なぞりましょう。)



式： $10 \times 4 =$

答え： _____

- 2 | 1こ50円のガムを、2こ買います。代金はいくらですか。



式：

答え： _____



かけ算の筆算 ①

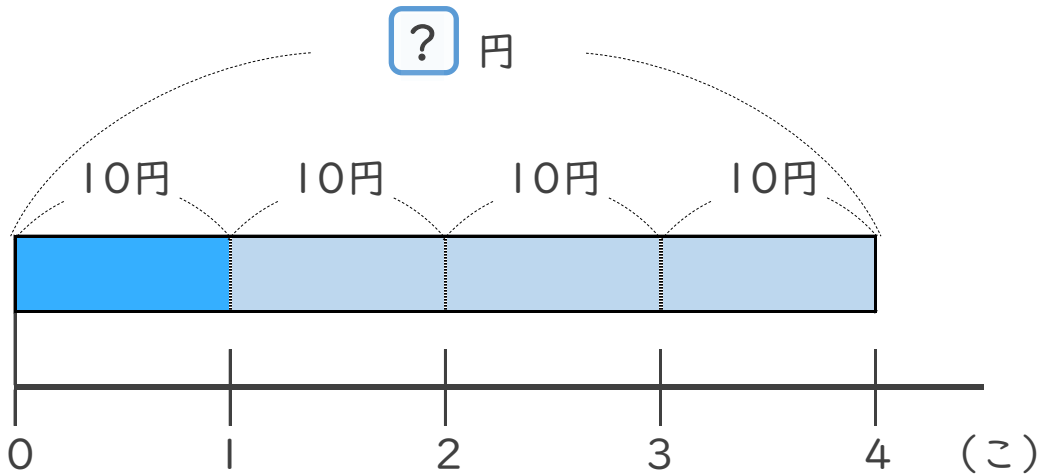
● 30 円のガムを
4 こ買った代金



日にち： 月 日

名まえ _____

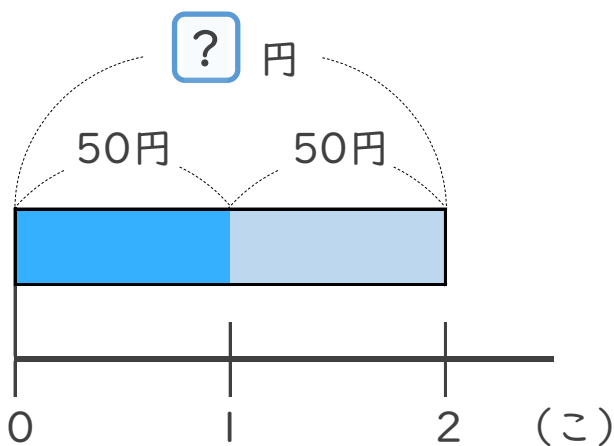
- 1 | 1 こ 10 円のチョコを、4 こ買います。代金はいくらですか。
(うすい字は、なぞりましょう。)



式： $10 \times 4 = 40$

答え： 40 円

- 2 | 1 こ 50 円のガムを、2 こ買います。代金はいくらですか。



式： $50 \times 2 = 100$

答え： 100 円

