



時こくと時間の
もとめかた 10

○分前の時こく (数直線)

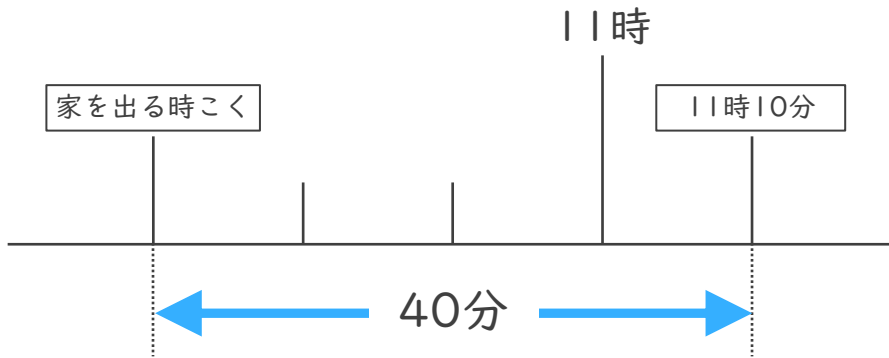


日にち： 月 日

名まえ _____

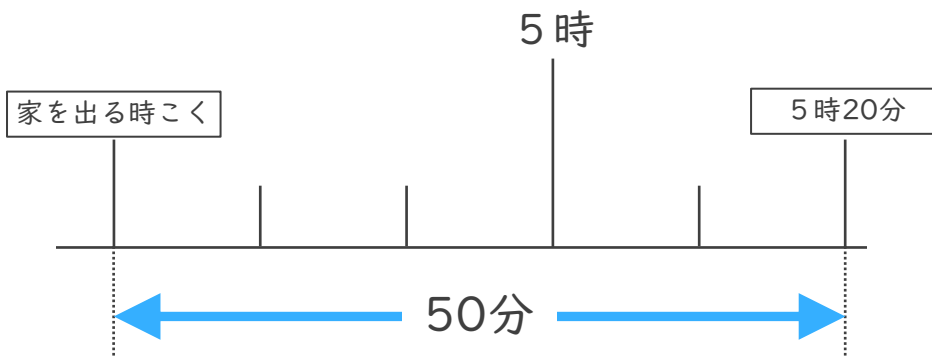
・ 次の問いに答えましょう。

- ① しょうさんの家から学校まで40分かかります。11時10分までに学校に着くためには、おそくとも何時何分までに家を出なければなりませんでしょうか。



答え ()

- ② けんさんの家から公園まで50分かかります。5時20分までに公園に着くためには、おそくとも何時何分までに家を出なければなりませんでしょうか。



答え ()





時こくと時間の
もとめかた 10

○分前の時こく (数直線)

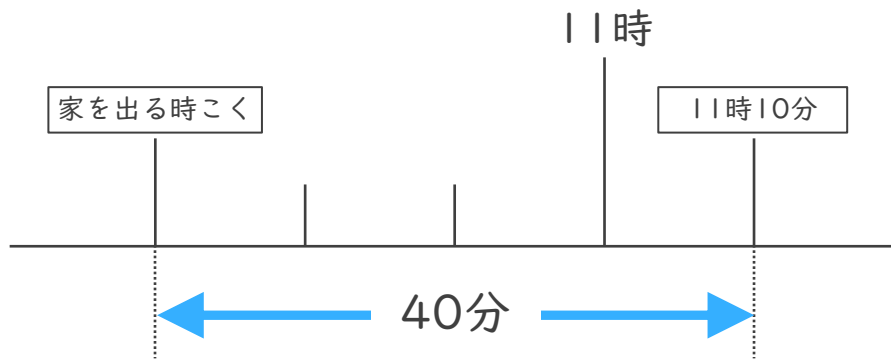


日にち： 月 日

名まえ _____

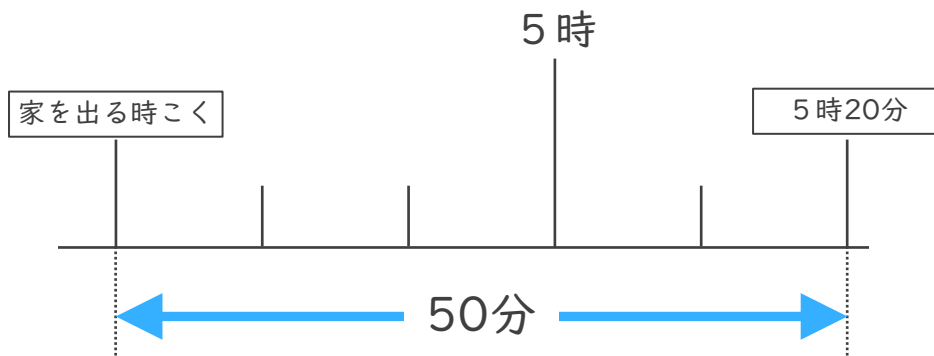
・ 次の問いに答えましょう。

- ① しょうさんの家から学校まで40分かかります。11時10分までに学校に着くためには、おそくとも何時何分までに家を出なければなりませんでしょうか。



答え (10時30分)

- ② けんさんの家から公園まで50分かかります。5時20分までに公園に着くためには、おそくとも何時何分までに家を出なければなりませんでしょうか。



答え (4時30分)