



時ごとと時間の
もとめかた 10



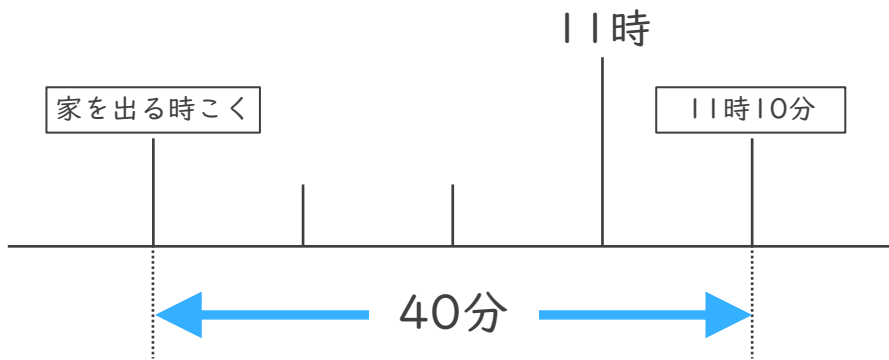
○分前の時ごと (数直線)

日にち： 月 日

名まえ

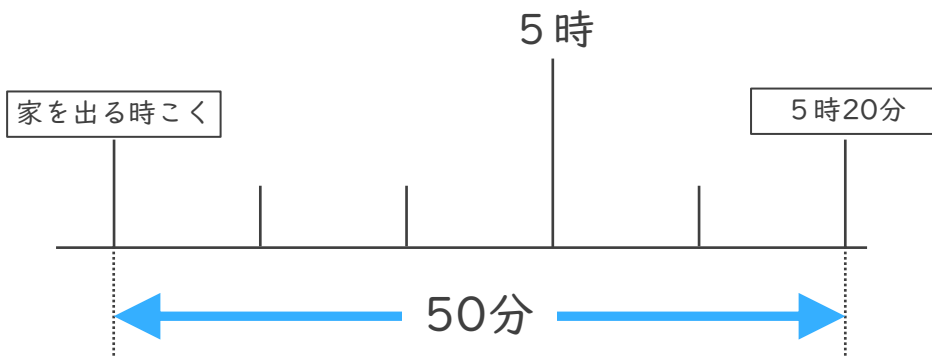
・ 次の問いに答^{こた}えましょう。

- ① しょうさんの家から学校まで40分かかります。11時10分までに学校に着くためには、おそくとも何時何分までに家を出なければならぬでしょうか。



答え ()

- ② けんさんの家から公園まで50分かかります。5時20分までに公園に着くためには、おそくとも何時何分までに家を出なければならぬでしょうか。



答え ()



時こくと時間の
もとめかた 10

○分前の時こく (数直線)

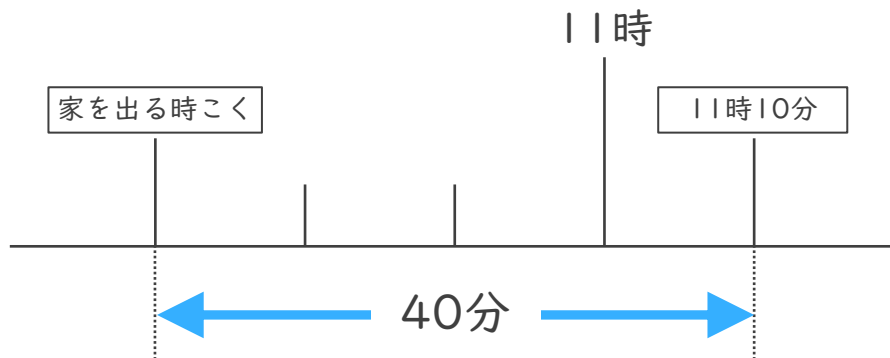


日にち： 月 日

名まえ _____

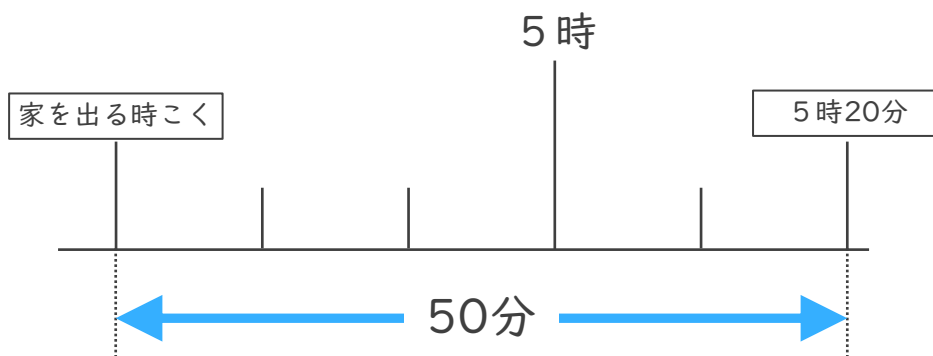
・ 次の問いに^{こた}答えましょう。

- ① しょうさんの家から学校まで40分かかります。11時10分までに学校に着くためには、おそくとも何時何分までに家を出なければならぬでしょうか。



答え (10時30分)

- ② けんさんの家から公園まで50分かかります。5時20分までに公園に着くためには、おそくとも何時何分までに家を出なければならぬでしょうか。



答え (4時30分)