



ぼうグラフと表5

● ぼうグラフの
1めもりの大きさ

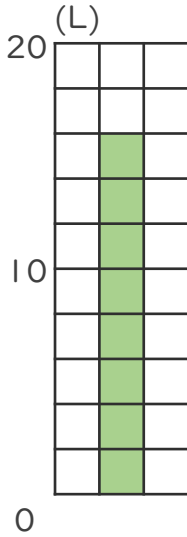


日にち： 月 日

名まえ _____

・ 次のぼうグラフで、1めもりが表している大きさと、
ぼうが表している大きさをもとめましょう。

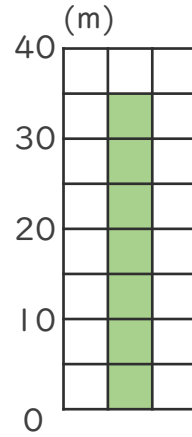
①



1めもり [2L]

グラフ [16L]

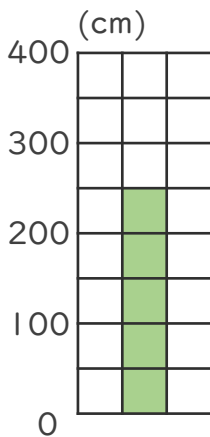
③



1めもり [5m]

グラフ [35m]

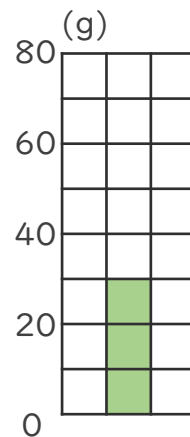
②



1めもり [50cm]

グラフ [250cm]

④



1めもり [10g]

グラフ [30g]

