



長いものの長さの
はかり方と表し方 2

● まきじゃくへの書きこみ



日にち： 月 日

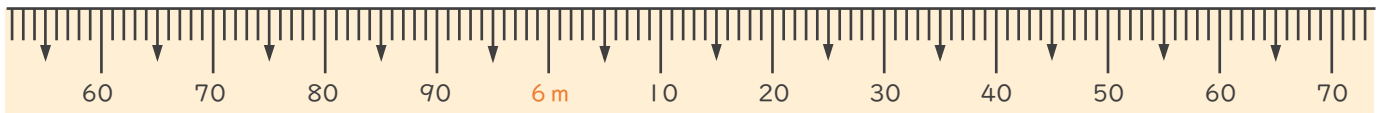
名まえ _____

1 次のまきじゃくで、①～③の長さ^{なが}を表す^{あらわ}めもりに ↓ をかきましょう。

① 5 m 7 4 c m

② 6 m 2 c m

③ 6 m 5 5 c m

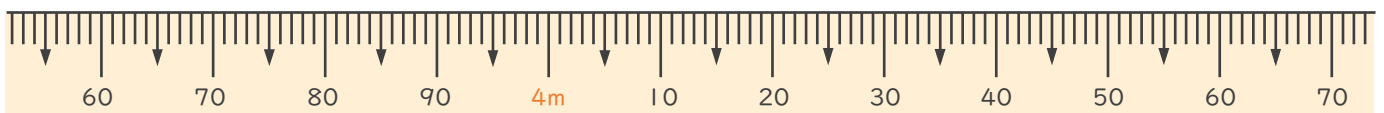


2 次のまきじゃくで、①～③の長さ^{なが}を表す^{あらわ}めもりに ↓ をかきましょう。

① 3 m 7 9 c m

② 3 m 9 7 c m

③ 4 m 3 5 c m





長いものの長さの はかり方と表し方 2

● まきじゃくへの書きこみ



日にち： 月 日

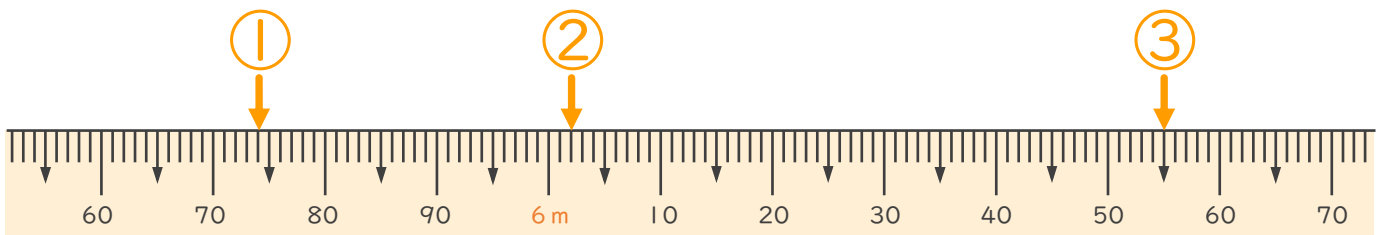
名まえ _____

1 次のまきじゃくで、①～③の長さ^{なが}を表す^{あらわ}めもりに ↓ をかきましょう。

① 5 m 7 4 c m

② 6 m 2 c m

③ 6 m 5 5 c m



2 次のまきじゃくで、①～③の長さ^{なが}を表す^{あらわ}めもりに ↓ をかきましょう。

① 3 m 7 9 c m

② 3 m 9 7 c m

③ 4 m 3 5 c m

