



円と球 7



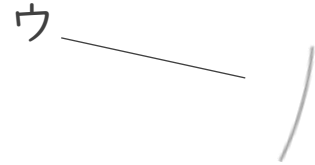
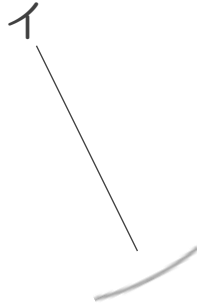

コンパスで長さ比べ

日にち： 月 日

名まえ _____

・ 次の直線の長さをくらべ、長い順に答えましょう。
(うすい字はなぞりましょう。)

①



答え： → →

②



答え： → →



円と球 7



コンパスで長さ比べ


日にち： 月 日

名まえ _____

・ 次の直線の長さをくらべ、長い順に答えましょう。
(うすい字はなぞりましょう。)

①

ア



イ



ウ



答え： ア → イ → ウ

②

ア



イ



ウ



答え： イ → ウ → ア

