



円と球 7

コンパスで長さ比べ

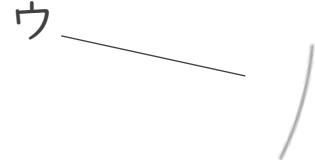




日にち： 月 日

名まえ _____

・ 次の直線の長さをくらべ、長いじゆんに答えましょう。
(うすい字は、なぞりましょう。)

①



答え： → →

②



答え： → →



円と球 7

● コンパスで長さ比べ




日にち： 月 日

名まえ _____

・ 次の直線の長さをくらべ、長いじゆんに答えましょう。
(うすい字は、なぞりましょう。)

①

ア



イ



ウ



答え： ア → イ → ウ

②

ア



イ



ウ



答え： イ → ウ → ア

