



かけ算 3


九九表のあなをうめよう




日にち： 月 日

名まえ _____

下の①～④は、かけ算九九表の一部です。


 でかかれている数をいみましょう。

①

	1	2	3	
	2		6	
	3	6	9	


答え： _____

③

	12	15	18	
	16	20		
	20	25	30	


答え： _____

②

	12	14	16	
	18	21	24	
		28	32	

答え： _____

④

		42	48	
	42	49	56	
	48	56	64	

答え： _____



かけ算 3


九九表のあなをうめよう



日にち： 月 日

名まえ _____

下の①～④は、かけ算九九表の一部です。


 でかかれている数をいみましょう。

①

	1	2	3	
	2		6	
	3	6	9	


答え： 4

③

	12	15	18	
	16	20		
	20	25	30	


答え： 24

②

	12	14	16	
	18	21	24	
		28	32	

答え： 24

④

		42	48	
	42	49	56	
	48	56	64	

答え： 36