



## 倍の計算 2

◎ 何倍かをもとめよう



日にち：            月            日

名まえ \_\_\_\_\_

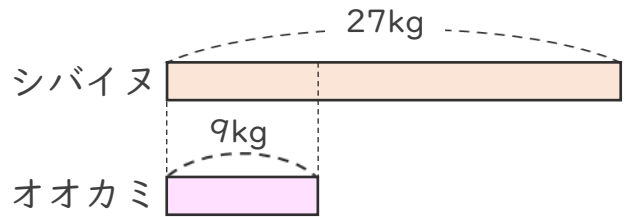
1 シバイヌの体重は、9kgです。

オオカミの体重は、27kgです。

オオカミの体重は、シバイヌの体長の何倍ですか。

(うすい字はなぞりましょう。)

式： $27 \div 9 =$



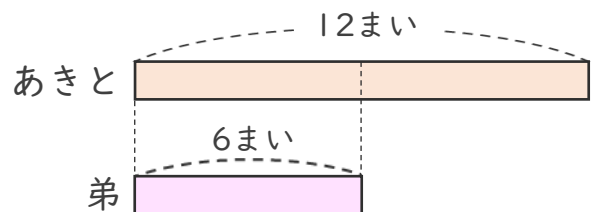
答え： \_\_\_\_\_

2 あきとさんは、色紙を12まい持っています。

あきとさんの弟は、6まい持っています。

あきとさんは弟の何倍持っていますか。

式：



答え： \_\_\_\_\_



## 倍の計算 2

◎ 何倍かをもとめよう



日にち：            月            日

名まえ \_\_\_\_\_

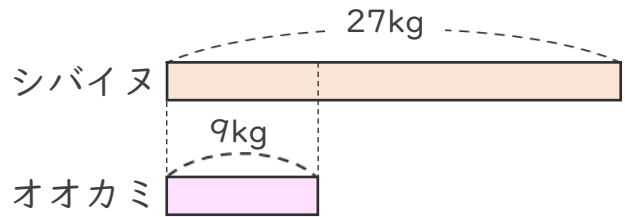
1 シバイヌの体重は、9kgです。

オオカミの体重は、27kgです。

オオカミの体重は、シバイヌの体長の何倍ですか。

(うすい字はなぞりましょう。)

$$\text{式： } 27 \div 9 = 3$$



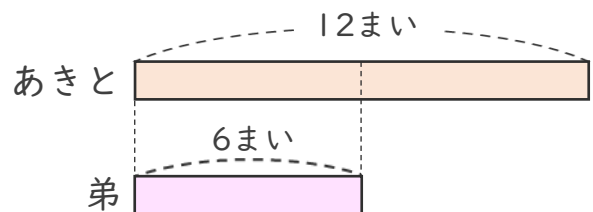
答え：    3    倍

2 あきとさんは、色紙を12まい持っています。

あきとさんの弟は、6まい持っています。

あきとさんは弟の何倍持っていますか。

$$\text{式： } 12 \div 6 = 2$$



答え：    2    倍