



# 円と球 3

● 円の中の一番長い線 (直径)

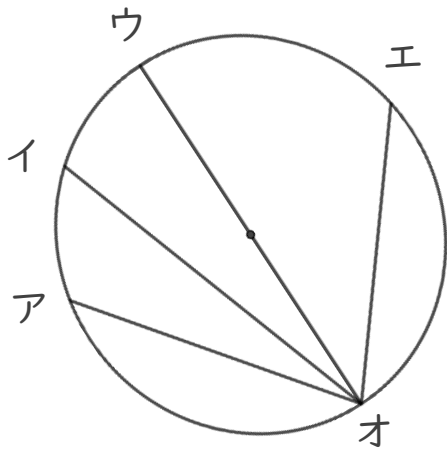


日にち： 月 日

名まえ \_\_\_\_\_

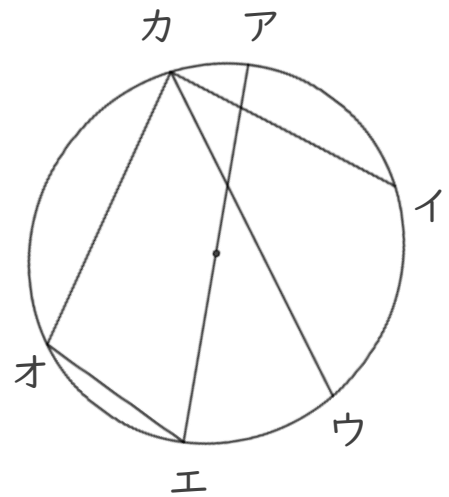
・ 次の円の中にひいた直線で一番長い直線はどれですか。  
(うすい字はなぞりましょう。)

①



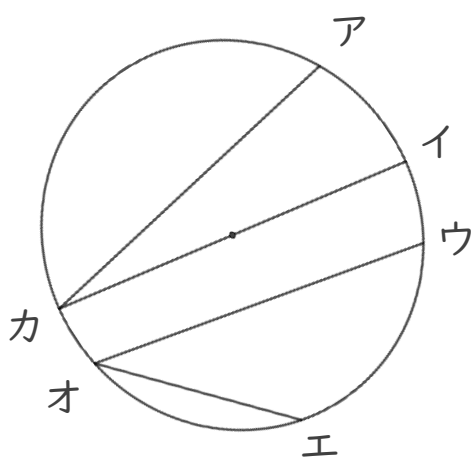
答え： 直線ウオ

③



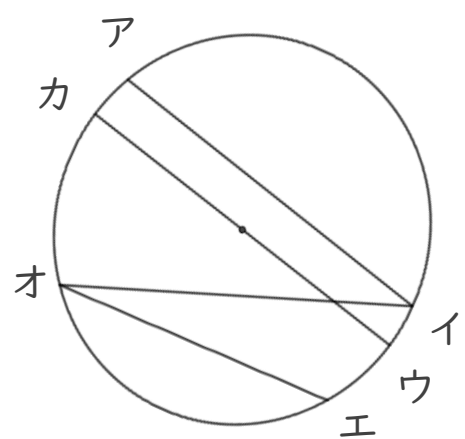
答え： \_\_\_\_\_

②



答え： \_\_\_\_\_

④



答え： \_\_\_\_\_





# 円と球 3

● 円の中の一番長い線（直径）

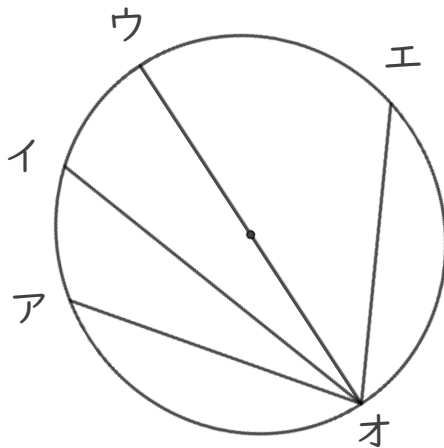


日にち： 月 日

名まえ \_\_\_\_\_

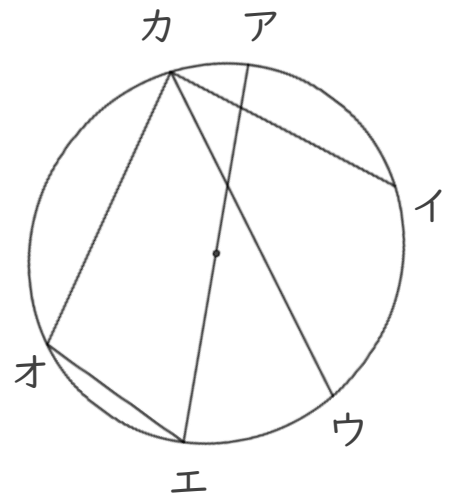
・ 次の円の中にひいた直線で一番長い直線はどれですか。  
(うすい字はなぞりましょう。)

①



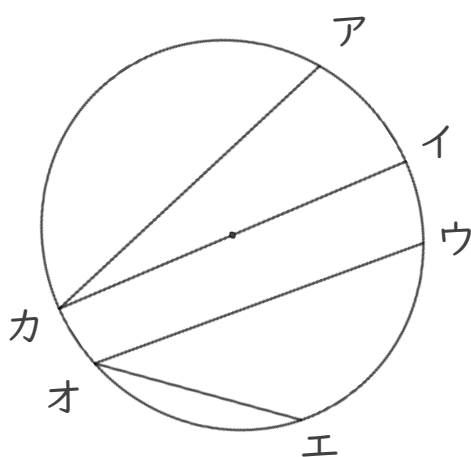
答え： 直線ウオ

③



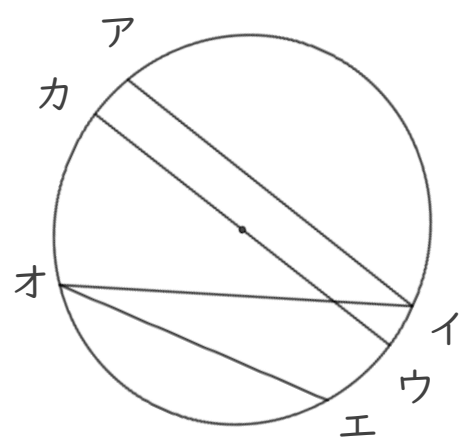
答え： 直線アエ

②



答え： 直線カイ

④



答え： 直線カウ