



# 円と球 3

● 円の中の一番長い線（直径）

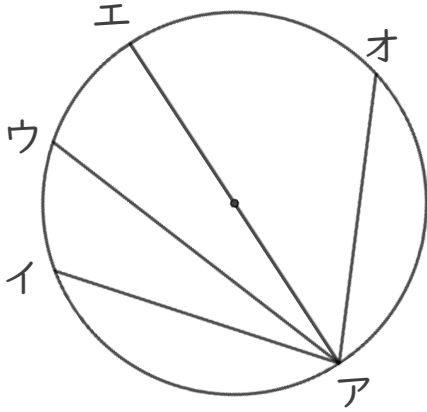


日にち：            月            日

名まえ \_\_\_\_\_

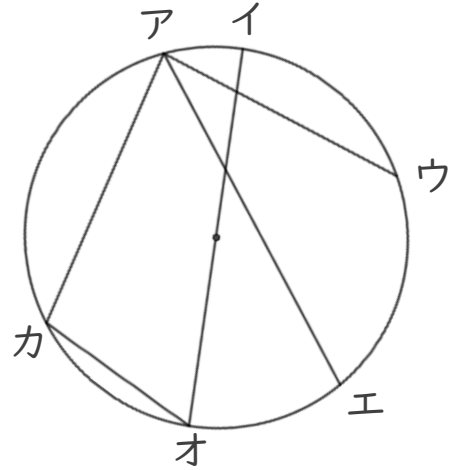
・ 円の中にひいた直線で一番長い直線はどれですか。  
(うすい字は、なぞりましょう。)

①



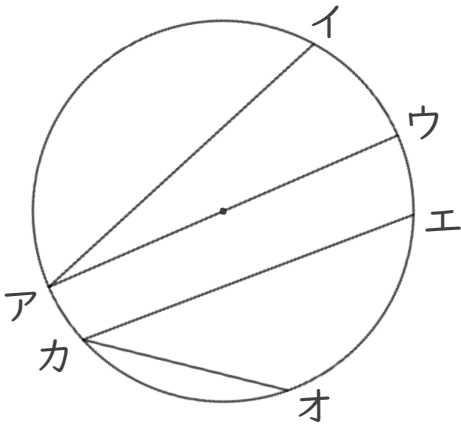
答え： 直線アエ

③



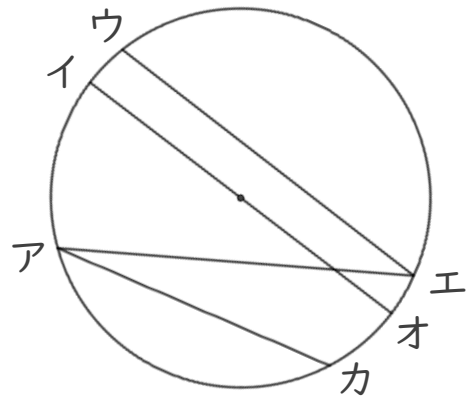
答え： \_\_\_\_\_

②



答え： \_\_\_\_\_

④



答え： \_\_\_\_\_



# 円と球 3

● 円の中の一番長い線 (直径)

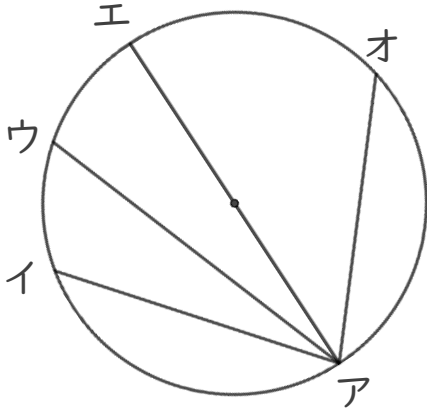


日にち：            月            日

名まえ \_\_\_\_\_

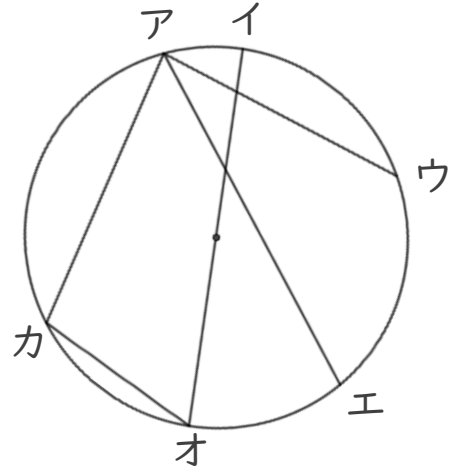
・ 円の中にひいた直線で一番長い直線はどれですか。  
(うすい字は、なぞりましょう。)

①



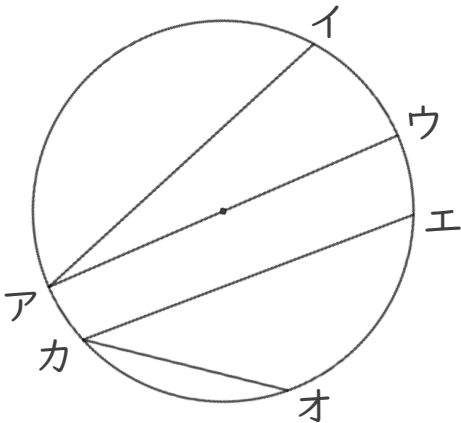
答え： 直線 ア エ

③



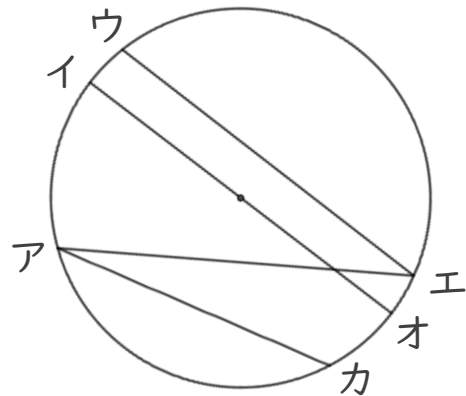
答え： 直線 イ オ

②



答え： 直線 ア ウ

④



答え： 直線 イ オ