



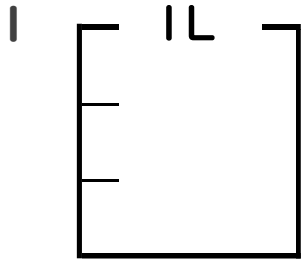
分数 5

● 分数の水のかさの色ぬり



日にち： 月 日

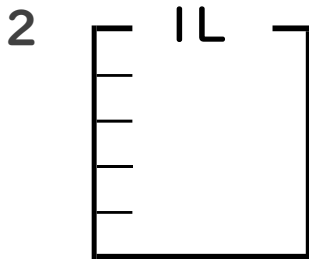
名まえ _____



① $\frac{1}{3}$ Lの 2 分だけ色をぬりましょう。

② 色をぬったところのかさは何Lですか。

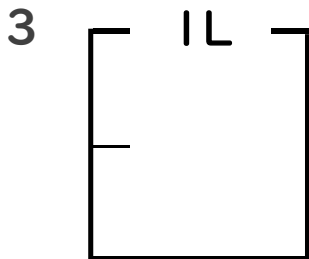
_____ L



① $\frac{1}{5}$ Lの 3 分だけ色をぬりましょう。

② 色をぬったところのかさは何Lですか。

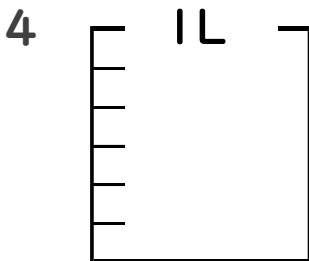
_____ L



① $\frac{1}{2}$ Lの 1 分だけ色をぬりましょう。

② 色をぬったところのかさは何Lですか。

_____ L



① $\frac{5}{6}$ Lの 3 分だけ色をぬりましょう。

② 色をぬったところのかさは何Lですか。

_____ L



① $\frac{1}{4}$ Lの 1 分だけ色をぬりましょう。

② 色をぬったところのかさは何Lですか。

_____ L





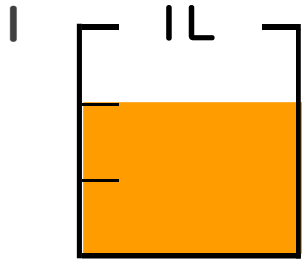
分数 5

● 分数の水のかさの色ぬり



日にち： 月 日

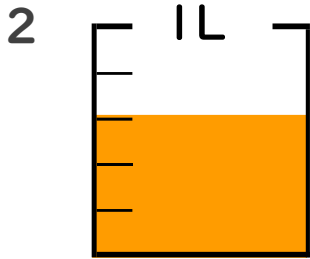
名まえ _____



① $\frac{1}{3}$ Lの 2 こ分だけ色をぬりましょう。

② 色をぬったところのかさは何Lですか。

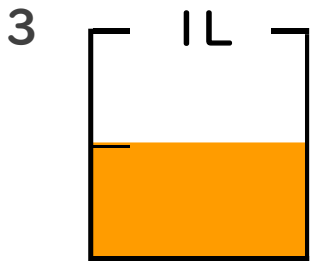
$\frac{2}{3}$ L



① $\frac{1}{5}$ Lの 3 こ分だけ色をぬりましょう。

② 色をぬったところのかさは何Lですか。

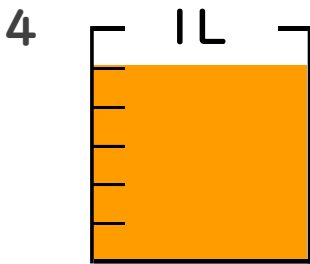
$\frac{3}{5}$ L



① $\frac{1}{2}$ Lの 1 こ分だけ色をぬりましょう。

② 色をぬったところのかさは何Lですか。

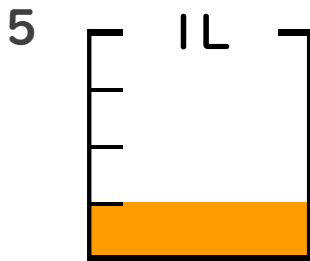
$\frac{1}{2}$ L



① $\frac{5}{6}$ Lの 3 こ分だけ色をぬりましょう。

② 色をぬったところのかさは何Lですか。

$\frac{5}{6}$ L



① $\frac{1}{4}$ Lの 1 こ分だけ色をぬりましょう。

② 色をぬったところのかさは何Lですか。

$\frac{1}{4}$ L

