



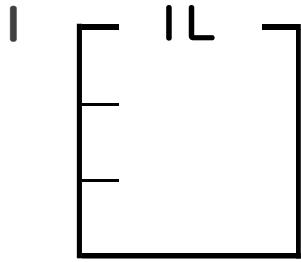
# 分数 5

● 分数の水のかさの色ぬり



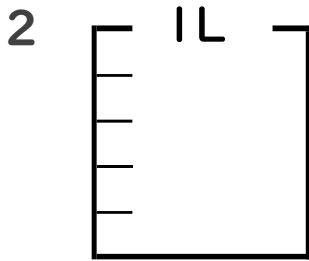
日にち：            月            日

名まえ \_\_\_\_\_



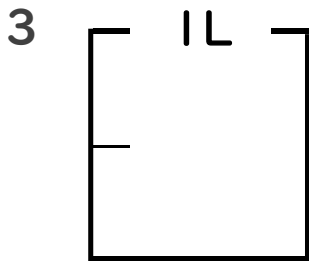
①  $\frac{1}{3}$  Lの 2 分だけ色をぬりましょう。

② 色をぬったところのかさは何Lですか。 \_\_\_\_\_ L



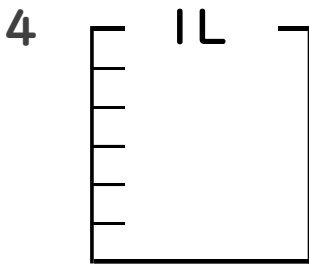
①  $\frac{1}{5}$  Lの 3 分だけ色をぬりましょう。

② 色をぬったところのかさは何Lですか。 \_\_\_\_\_ L



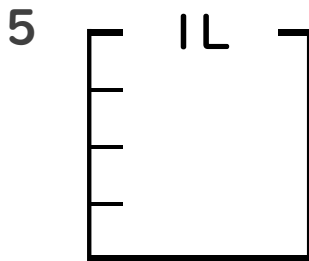
①  $\frac{1}{2}$  Lの 1 分だけ色をぬりましょう。

② 色をぬったところのかさは何Lですか。 \_\_\_\_\_ L



①  $\frac{5}{6}$  Lの 3 分だけ色をぬりましょう。

② 色をぬったところのかさは何Lですか。 \_\_\_\_\_ L



①  $\frac{1}{4}$  Lの 1 分だけ色をぬりましょう。

② 色をぬったところのかさは何Lですか。 \_\_\_\_\_ L





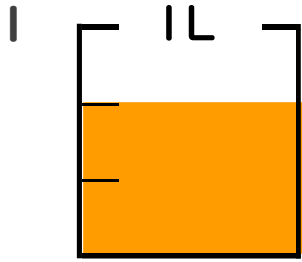
# 分数 5

● 分数の水のかさの色ぬり



日にち：            月            日

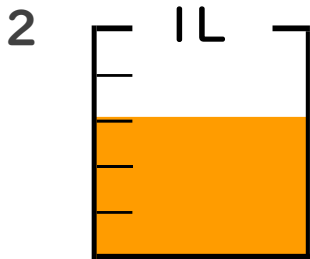
名まえ \_\_\_\_\_



①  $\frac{1}{3}$  Lの 2 分だけ色をぬりましょう。

② 色をぬったところのかさは何Lですか。

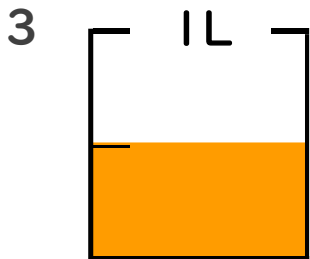
$\frac{2}{3}$  L



①  $\frac{1}{5}$  Lの 3 分だけ色をぬりましょう。

② 色をぬったところのかさは何Lですか。

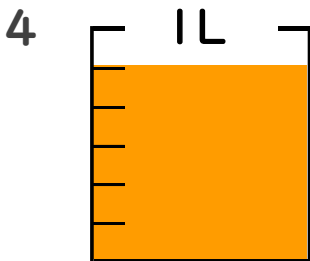
$\frac{3}{5}$  L



①  $\frac{1}{2}$  Lの 1 分だけ色をぬりましょう。

② 色をぬったところのかさは何Lですか。

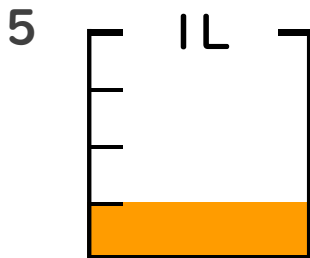
$\frac{1}{2}$  L



①  $\frac{5}{6}$  Lの 3 分だけ色をぬりましょう。

② 色をぬったところのかさは何Lですか。

$\frac{5}{6}$  L



①  $\frac{1}{4}$  Lの 1 分だけ色をぬりましょう。

② 色をぬったところのかさは何Lですか。

$\frac{1}{4}$  L

