



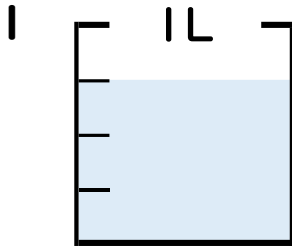
分数 4

分数の水のかさの読み取り



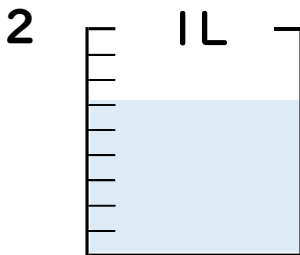
日にち： 月 日

名まえ _____



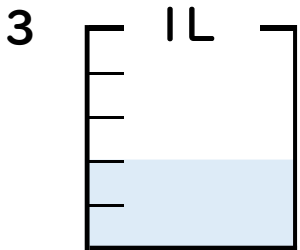
① 図の水のかさは1メモリの何分ですか？ _____ 分

② 水のかさは、何^{リットル}Lですか？ _____ L



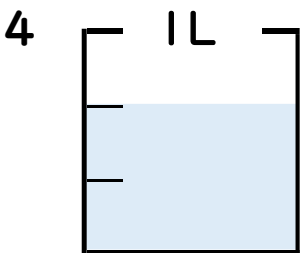
① 図の水のかさは1メモリの何分ですか？ _____ 分

② 水のかさは、何^{リットル}Lですか？ _____ L



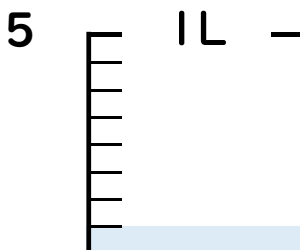
① 図の水のかさは1メモリの何分ですか？ _____ 分

② 水のかさは、何^{リットル}Lですか？ _____ L



① 図の水のかさは1メモリの何分ですか？ _____ 分

② 水のかさは、何^{リットル}Lですか？ _____ L



① 図の水のかさは1メモリの何分ですか？ _____ 分

② 水のかさは、何^{リットル}Lですか？ _____ L





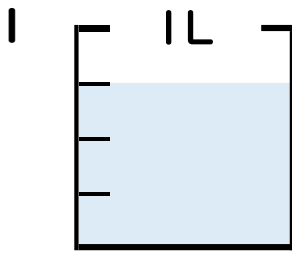
分数 4

● 分数の水のかさの読み取り



日にち： 月 日

名まえ _____

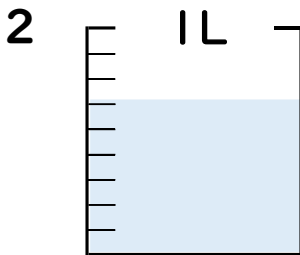


① 図の水のかさは1メモリの何こ分ですか？

3 共分

② 水のかさは、何^{リットル}Lですか？

$\frac{3}{4}$ L

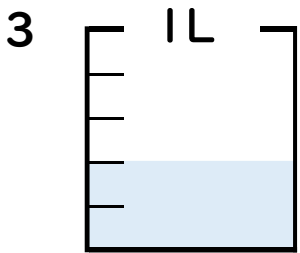


① 図の水のかさは1メモリの何こ分ですか？

6 共分

② 水のかさは、何^{リットル}Lですか？

$\frac{6}{9}$ L

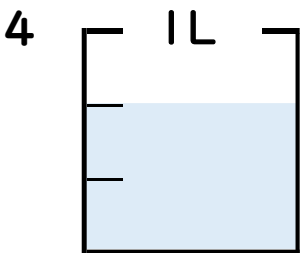


① 図の水のかさは1メモリの何こ分ですか？

2 共分

② 水のかさは、何^{リットル}Lですか？

$\frac{2}{5}$ L

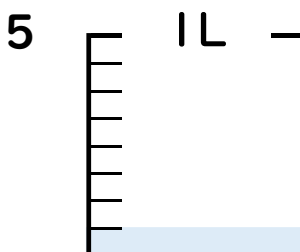


① 図の水のかさは1メモリの何こ分ですか？

2 共分

② 水のかさは、何^{リットル}Lですか？

$\frac{2}{3}$ L



① 図の水のかさは1メモリの何こ分ですか？

1 共分

② 水のかさは、何^{リットル}Lですか？

$\frac{1}{8}$ L

