



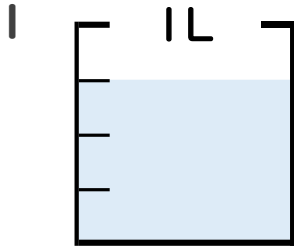
分数 4

● 分数の水のかさの読み取り

6

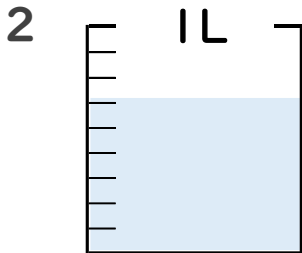
日にち： 月 日

名まえ _____



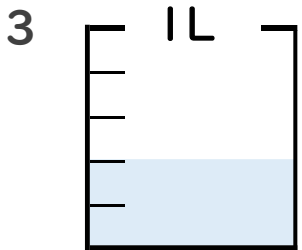
① 図の水のかさは1めもりの何こ分ですか？ _____ 半分

② 水のかさは、何Lですか？ _____ L



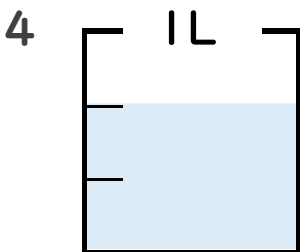
① 図の水のかさは1めもりの何こ分ですか？ _____ 七分

② 水のかさは、何Lですか？ _____ L



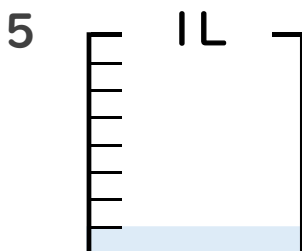
① 図の水のかさは1めもりの何こ分ですか？ _____ 四分

② 水のかさは、何Lですか？ _____ L



① 図の水のかさは1めもりの何こ分ですか？ _____ 半分

② 水のかさは、何Lですか？ _____ L



① 図の水のかさは1めもりの何こ分ですか？ _____ 十分

② 水のかさは、何Lですか？ _____ L





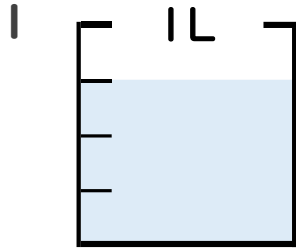
分数 4

● 分数の水のかさの読み取り

6

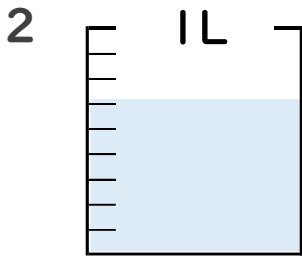
日にち： 月 日

名まえ _____



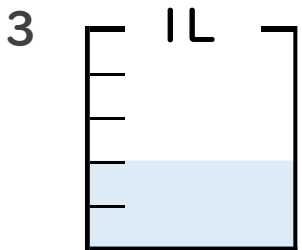
① 図の水のかさは1めもりの何こ分ですか？ 3 共分

② 水のかさは、何Lですか？ $\frac{3}{4}$ L



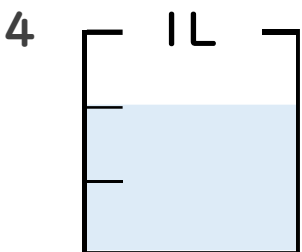
① 図の水のかさは1めもりの何こ分ですか？ 6 共分

② 水のかさは、何Lですか？ $\frac{6}{9}$ L



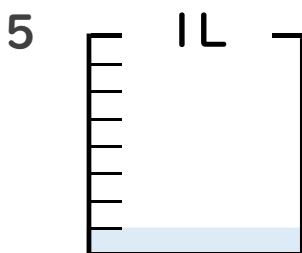
① 図の水のかさは1めもりの何こ分ですか？ 2 共分

② 水のかさは、何Lですか？ $\frac{2}{5}$ L



① 図の水のかさは1めもりの何こ分ですか？ 2 共分

② 水のかさは、何Lですか？ $\frac{2}{3}$ L



① 図の水のかさは1めもりの何こ分ですか？ 1 共分

② 水のかさは、何Lですか？ $\frac{1}{8}$ L

