



分数 2

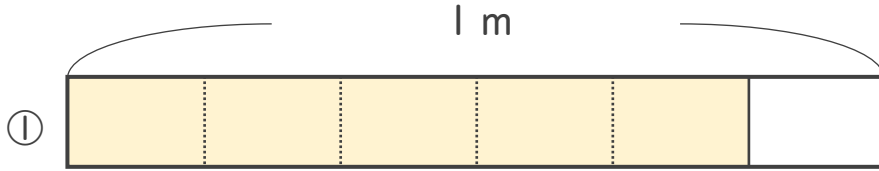
● 分数の長さの読み取り



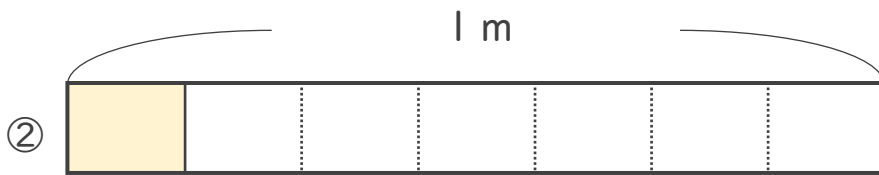
日にち： 月 日

名まえ _____

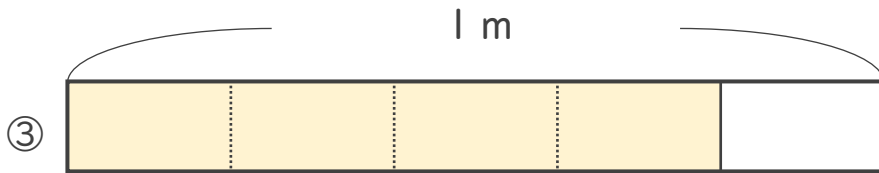
いろ
・色をぬったところのながさは、何mでしょう。
なが
なん



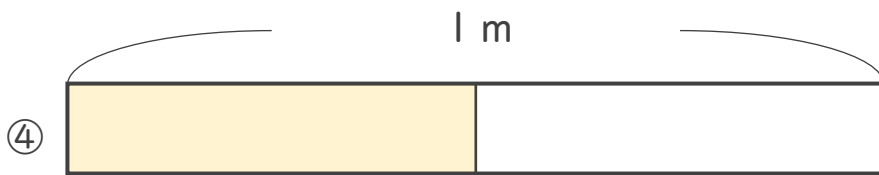
こたえ： $\frac{5}{6}$ m




こたえ： $\frac{1}{7}$ m



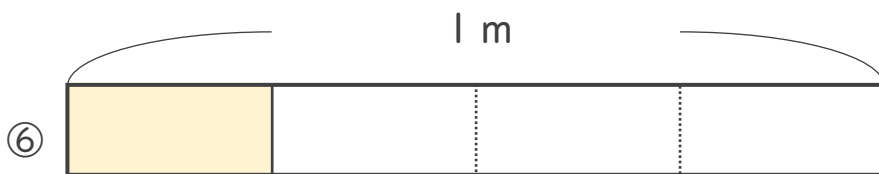
こたえ： $\frac{4}{5}$ m



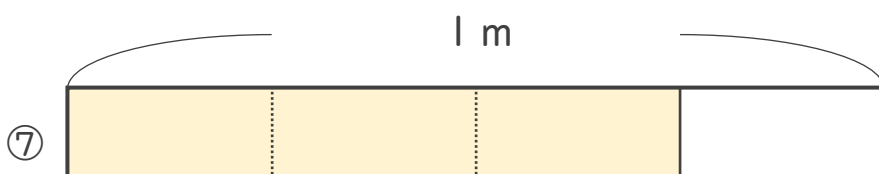
こたえ： $\frac{1}{2}$ m



こたえ： $\frac{2}{3}$ m



こたえ： $\frac{1}{4}$ m



こたえ： $\frac{3}{4}$ m

