



## 円と球 4

◎ 半径の長さから円をかく

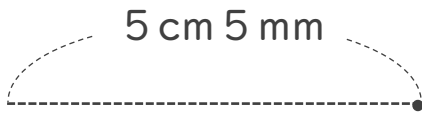


日にち：            月            日

名まえ \_\_\_\_\_

・コンパスを使って、次の円をかきましょう。

① 半径が 5 cm 5 mm の円



② 半径が 3 cm 5 mm の円





## 円と球 4

◎ 半径の長さから円をかく

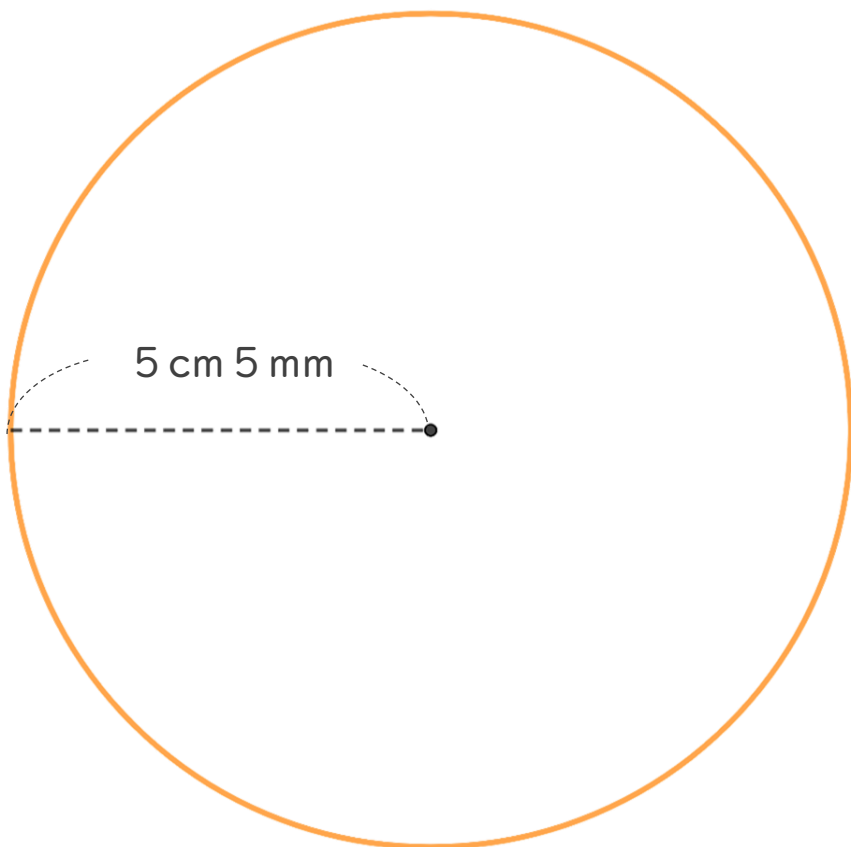


日にち：            月            日

名まえ \_\_\_\_\_

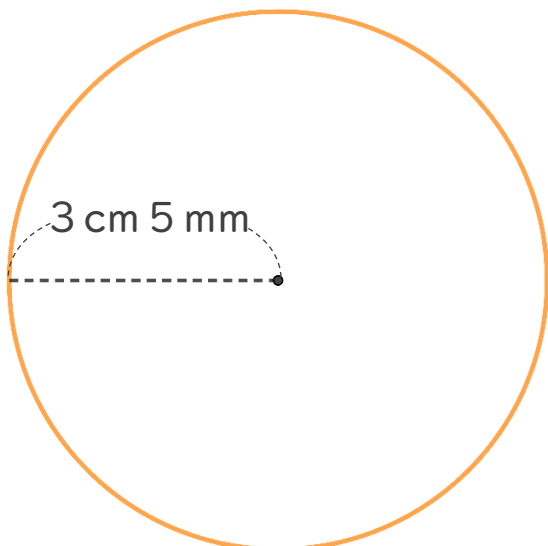
・コンパスを使って、次の円をかきましょう。

① 半径が 5 cm 5 mm の円



かいた円の直径が  
11 cm になっているか  
チェックしよう！

② 半径が 3 cm 5 mm の円



かいた円の直径が  
7 cm になっているか  
チェックしよう！

