

# 小数の意味と表し方7

● 小数で表す1cmより短い長さ



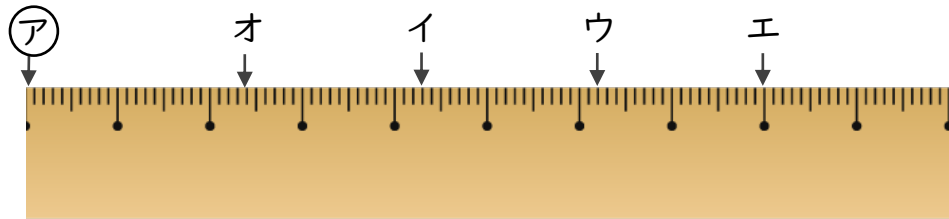
日にち：            月            日

名まえ

---

・ ㊦からイ、ウ、エ、オまでの長さは、それぞれ何cmですか。  
(うすい字はしっかりなぞりましょう。)

①

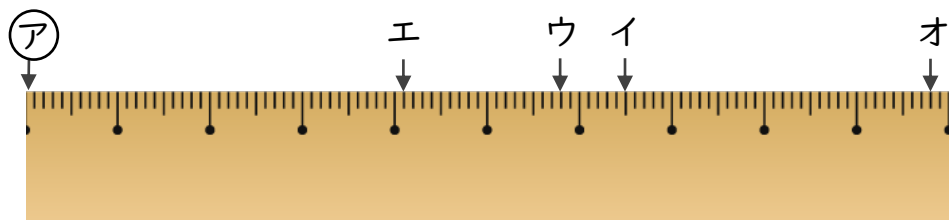


答え    ㊦からイ    4.3    cm            ㊦からウ

          ㊦からエ                            ㊦からオ

---

②



答え    ㊦からイ                            ㊦からウ

          ㊦からエ                            ㊦からオ

---



# 小数の意味と表し方7

● 小数で表す1cmより短い長さ



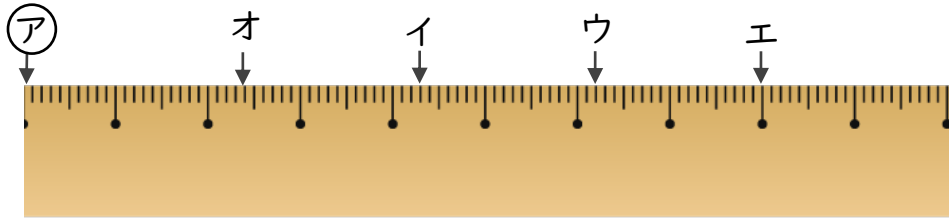
日にち：            月            日

名まえ

---

・ ㊦からイ、ウ、エ、オまでの長さは、それぞれ何cmですか。  
(うすい字はしっかりなぞりましょう。)

①

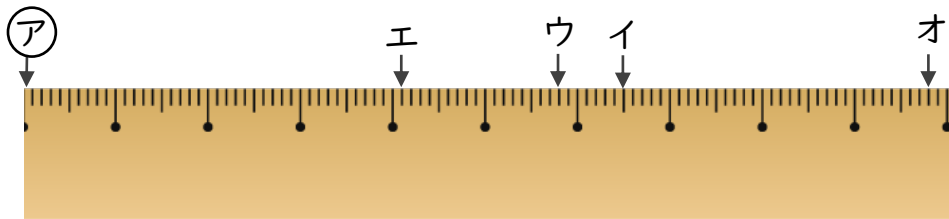


答え    ㊦からイ    4.3    cm            ㊦からウ    6.2    cm

          ㊦からエ    8        cm            ㊦からオ    2.4    cm

---

②



答え    ㊦からイ    6.5    cm            ㊦からウ    5.8    cm

          ㊦からエ    4.1    cm            ㊦からオ    9.8    cm

---