



# 小数の意味と表し方⑦

● 小数で表す1cmより短い長さ

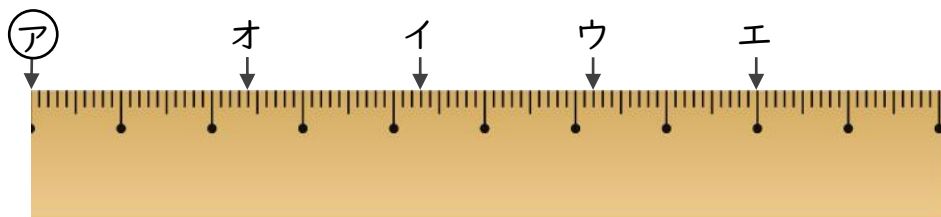


日にち：            月            日

名まえ \_\_\_\_\_

・ ㊦からイ、ウ、エ、オまでの長さは、それぞれ何cmですか。  
(うすい字はなぞりましょう。)

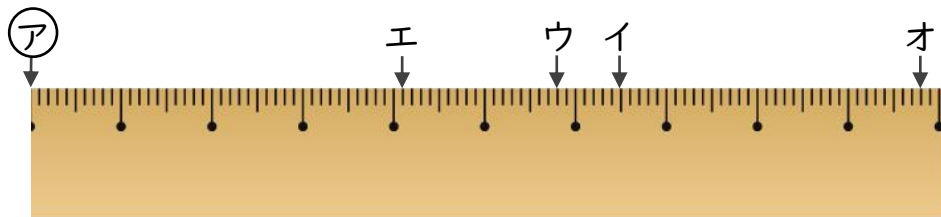
①



答え    ㊦からイ    4.3    cm            ㊦からウ

          ㊦からエ                            ㊦からオ

②



答え    ㊦からイ                            ㊦からウ

          ㊦からエ                            ㊦からオ



# 小数の意味と表し方7

● 小数で表す1cmより短い長さ

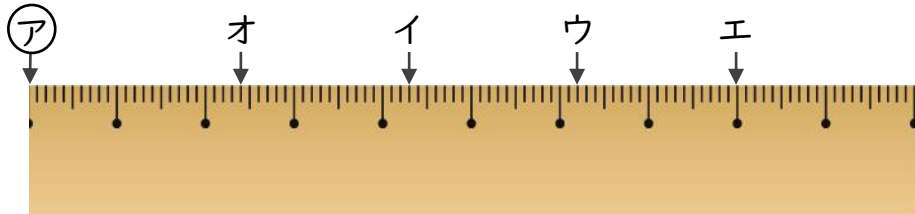


日にち：            月            日

名まえ \_\_\_\_\_

・ ㊦からイ、ウ、エ、オまでの長さは、それぞれ何cmですか。  
(うすい字はなぞりましょう。)

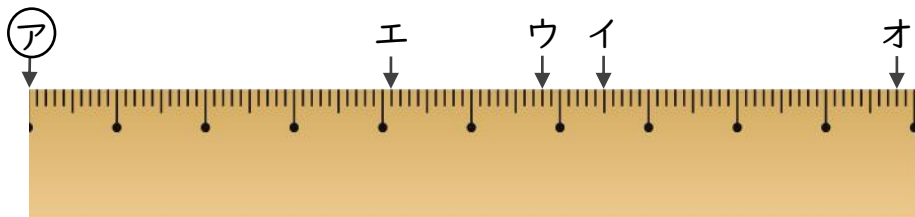
①



答え    ㊦からイ    4.3 cm            ㊦からウ    6.2 cm

          ㊦からエ    8 cm            ㊦からオ    2.4 cm

②



答え    ㊦からイ    6.5 cm            ㊦からウ    5.8 cm

          ㊦からエ    4.1 cm            ㊦からオ    9.8 cm