



小数の意味と表し方II

● 小数の位置を数直線へ書きこむ



日にち： 月 日

名まえ _____

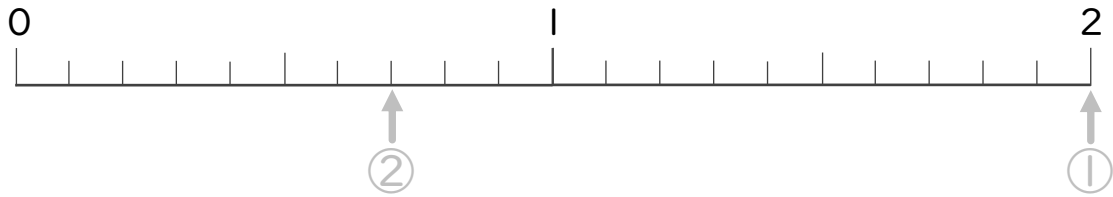
・ 次の数を表すめもりに ↑ を書きましょう。
(うすい字はなぞりましょう。)

① 2

② 0.7

③ 1.3

④ 1.1



⑤ 1.4

⑥ 1.2

⑦ 1.8

⑧ 0.5



⑨ 1.5

⑩ 0.4

⑪ 1.1

⑫ 0.9





小数の意味と表し方II

● 小数の位置を数直線へ書きこむ



日にち： 月 日

名まえ _____

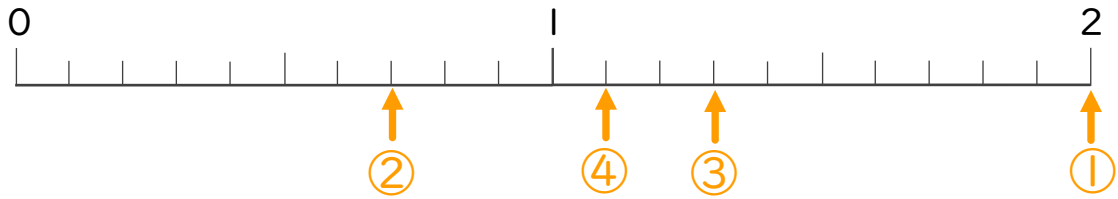
・ 次の数を表すメモリに ↑ を書きましょう。
(うすい字はなぞりましょう。)

① 2

② 0.7

③ 1.3

④ 1.1

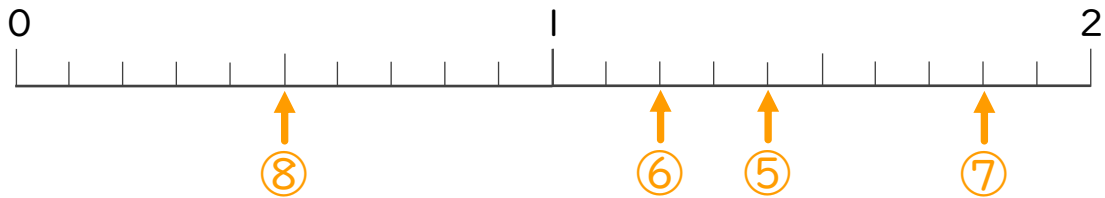


⑤ 1.4

⑥ 1.2

⑦ 1.8

⑧ 0.5



⑨ 1.5

⑩ 0.4

⑪ 1.1

⑫ 0.9

