



たし算と  
ひき算の筆算 22

● 式をつくろう  
(大きな数のたし算)



日にち： 月 日

名まえ \_\_\_\_\_

- ・  $\boxed{0}$  から  $\boxed{9}$  までの10まいのカードを8まい使って、  
答えが9000になるたし算の式をつくりましょう。

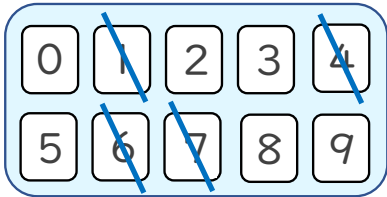


$$\square\square\square\square + \square\square\square\square = 9000$$

☆ 次の  $\square$  に数字を入れましょう。(うすい字はなぞりましょう。)

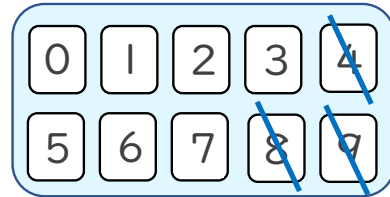
①

$$\begin{array}{r} 6 \quad 4 \quad 1 \quad 7 \\ + \quad \square \quad \square \quad \square \quad \square \\ \hline 9 \quad 0 \quad 0 \quad 0 \end{array}$$



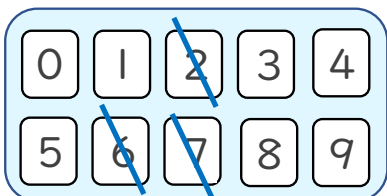
②

$$\begin{array}{r} \square \quad 4 \quad 9 \quad 8 \\ + \quad \square \quad \square \quad \square \quad \square \\ \hline 9 \quad 0 \quad 0 \quad 0 \end{array}$$



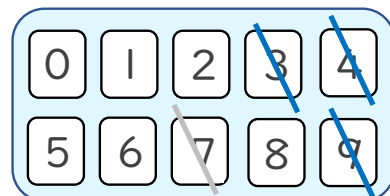
③

$$\begin{array}{r} \square \quad \square \quad 7 \quad 6 \\ + \quad \square \quad \square \quad 2 \quad \square \\ \hline 9 \quad 0 \quad 0 \quad 0 \end{array}$$



④

$$\begin{array}{r} \square \quad \square \quad \square \quad 4 \\ + \quad 3 \quad 9 \quad 7 \quad \square \\ \hline 9 \quad 0 \quad 0 \quad 0 \end{array}$$





たし算と  
ひき算の筆算 22

● 式をつくろう  
(大きな数のたし算)



日にち： 月 日

名まえ \_\_\_\_\_

- ・  $\boxed{0}$  から  $\boxed{9}$  までの10まいのカードを8まい使って、  
答えが9000になるたし算の式をつくりましょう。

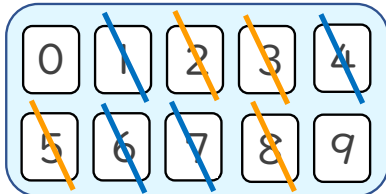


$$\square\square\square\square + \square\square\square\square = 9000$$

☆ 次の  $\square$  に数字を入れましょう。(うすい字はなぞりましょう。)

①

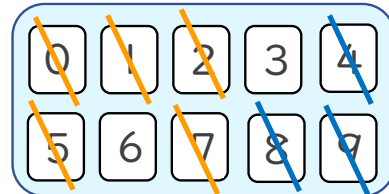
	6	4	1	7
+	2	5	8	3
9 0 0 0				



(例)

②

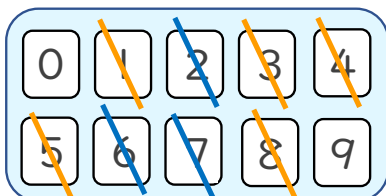
	1	4	9	8
+	7	5	0	2
9 0 0 0				



(例)

③

	3	8	7	6
+	5	1	2	4
9 0 0 0				



④

	5	0	2	4
+	3	9	7	6
9 0 0 0				

