



# □を使った式 10

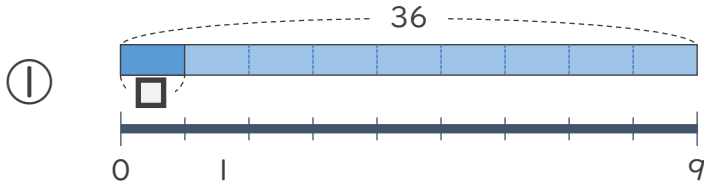
● 数 ÷ □ の  
□ をもとめる計算



日にち：            月            日

名まえ \_\_\_\_\_

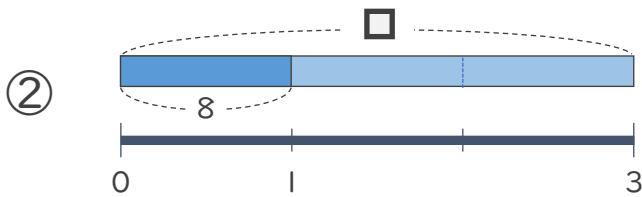
・ □ にあてはまる数をもとめましょう。



$$36 \div \square = 9$$

$$\square =$$

$$\square =$$



$$\square \div 3 = 8$$

$$\square =$$

$$\square =$$



# □を使った式 10

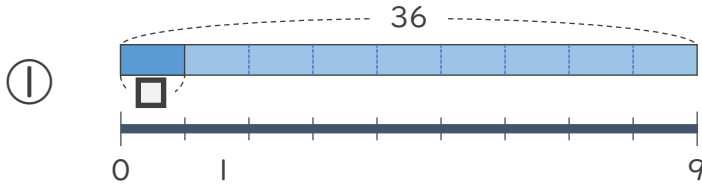
● 数 ÷ □ の  
□ をもとめる計算



日にち：            月            日

名まえ \_\_\_\_\_

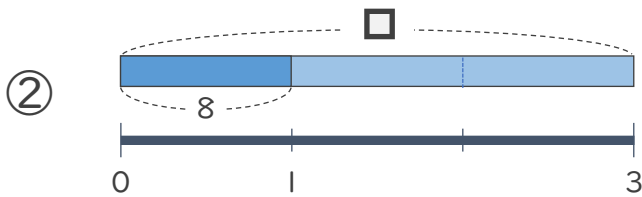
・ □ にあてはまる数をもとめましょう。



$$36 \div \square = 9$$

$$\square = 20 \div 5$$

$$\square = 4$$



$$\square \div 3 = 8$$

$$\square = 8 \times 3$$

$$\square = 24$$