



小数の意味と表し方 10

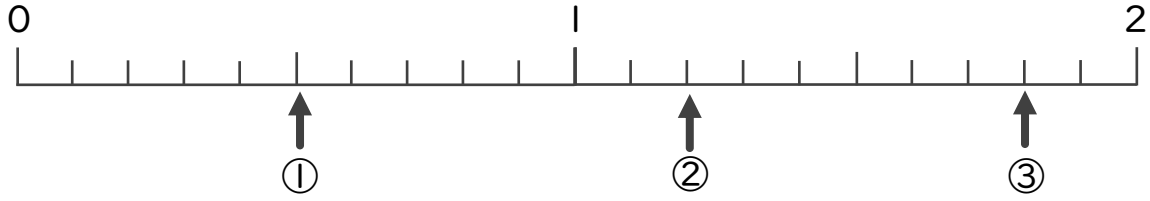
● 数直線の小数の読みとり



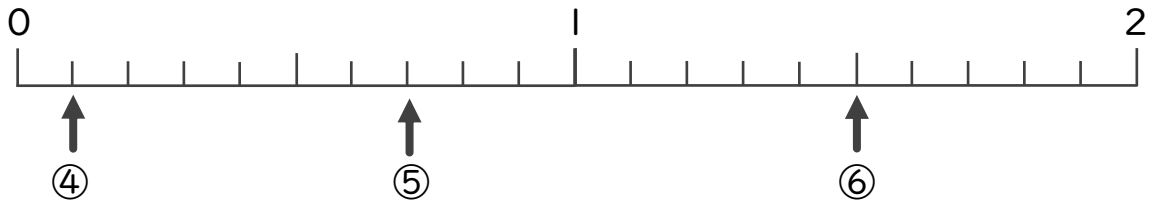
日にち： 月 日

名まえ _____

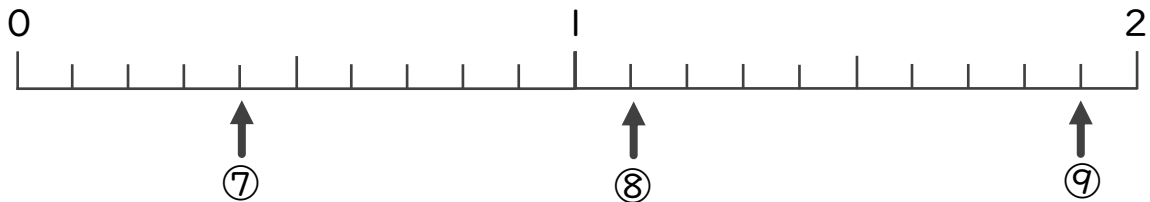
・ 下の数直線を見て ↑ のめもりが表す数を書きましょう。
(うすい字はしっかりなぞりましょう。)



① 0.5 ② 1.2 ③



④ ⑤ ⑥



⑦ ⑧ ⑨



小数の意味と表し方 10

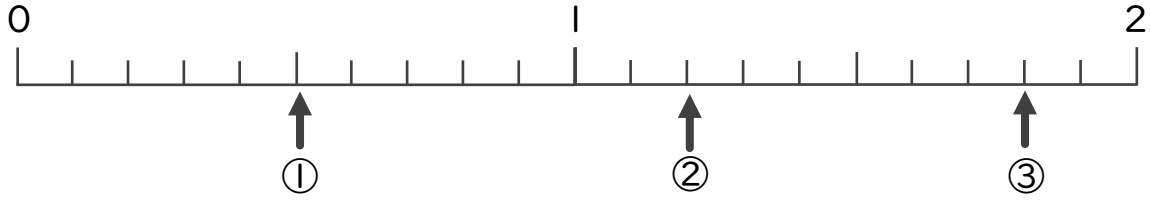
数直線の小数の読みとり



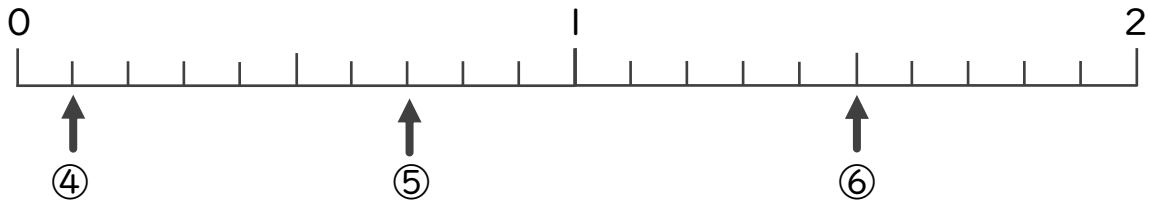
日にち： 月 日

名まえ

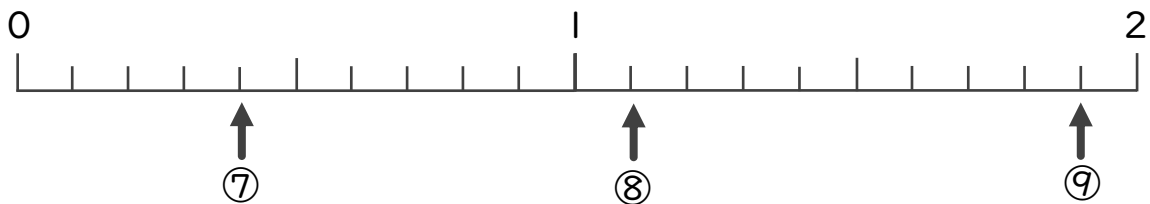
下の数直線を見て ↑ のめもりが表す数を書きましょう。
(うすい字はしっかりなぞりましょう。)



① 0.5 ② 1.2 ③ 1.8



④ 0.1 ⑤ 0.7 ⑥ 1.5



⑦ 0.4 ⑧ 1.1 ⑨ 1.9