



□を使った式 8

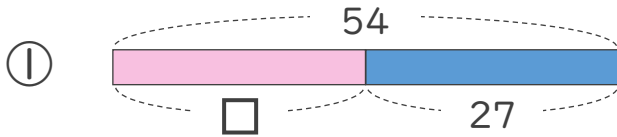
● 数-□の□を
もとめる計算



日にち： 月 日

名まえ _____

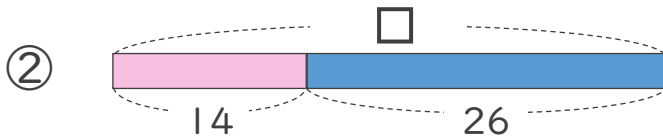
・ □にあてはまる数をもとめましょう。



$$54 - \square = 27$$

$$\square =$$

$$\square =$$



$$\square - 14 = 26$$

$$\square =$$

$$\square =$$





□を使った式 8

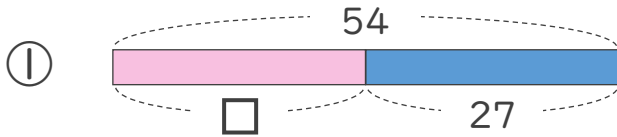
● 数-□ の□を
もとめる計算



日にち： 月 日

名まえ _____

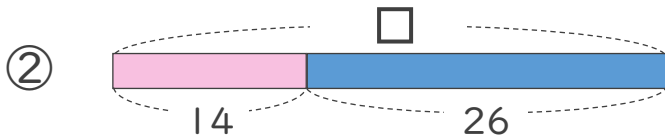
・ □にあてはまる数をもとめましょう。



$$54 - \square = 27$$

$$\square = 54 - 27$$

$$\square = 27$$



$$\square - 14 = 26$$

$$\square = 26 + 14$$

$$\square = 40$$