



時こくと時間の
もとめかた 2

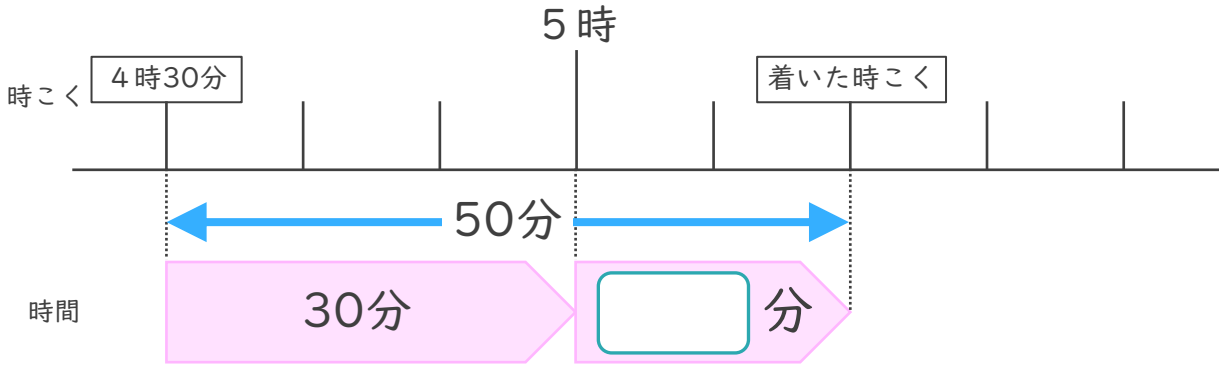


時こくをもとめる (数直線)

日にち： 月 日

名まえ _____

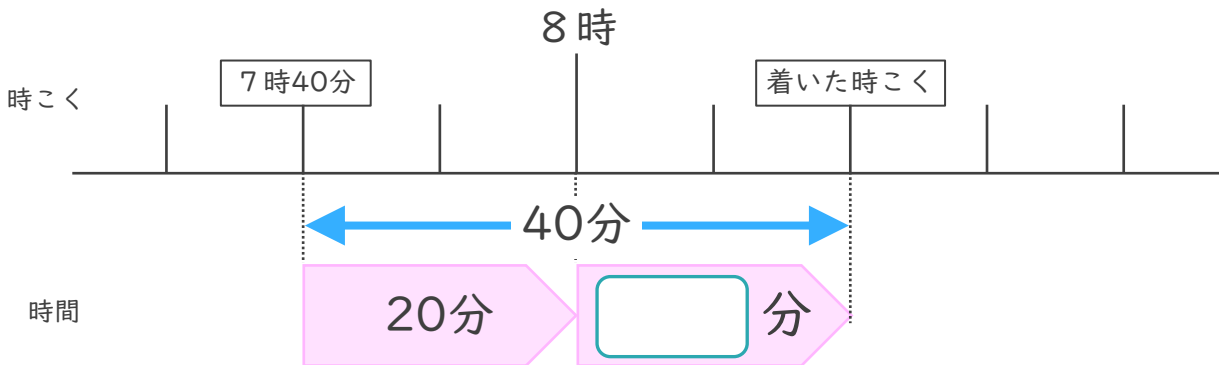
1 家を午後4時30分に出て、50分歩くと公民館に着きました。



- ① にあてはまる数を書きましょう。
- ② 公民館に着いた時こくは何時何分ですか。

答え ()

2 家を午前7時40分に出て、40分歩くと公園に着きました。



- ① にあてはまる数を書きましょう。
- ② 公園に着いた時こくは何時何分ですか。

答え ()





時こくと時間の もとめかた 2

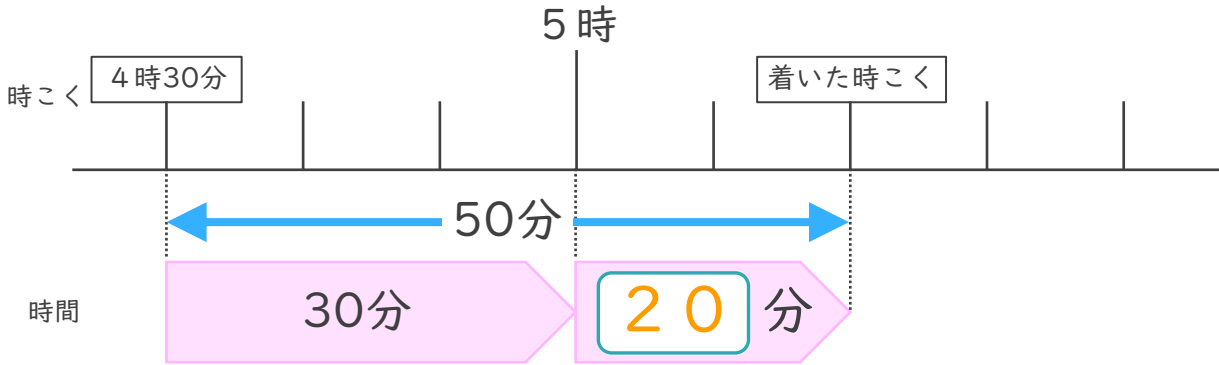
● 時こくをもとめる (数直線)



日にち： 月 日

名まえ _____

1 家を午後4時30分に出て、50分歩くと公民館に着きました。

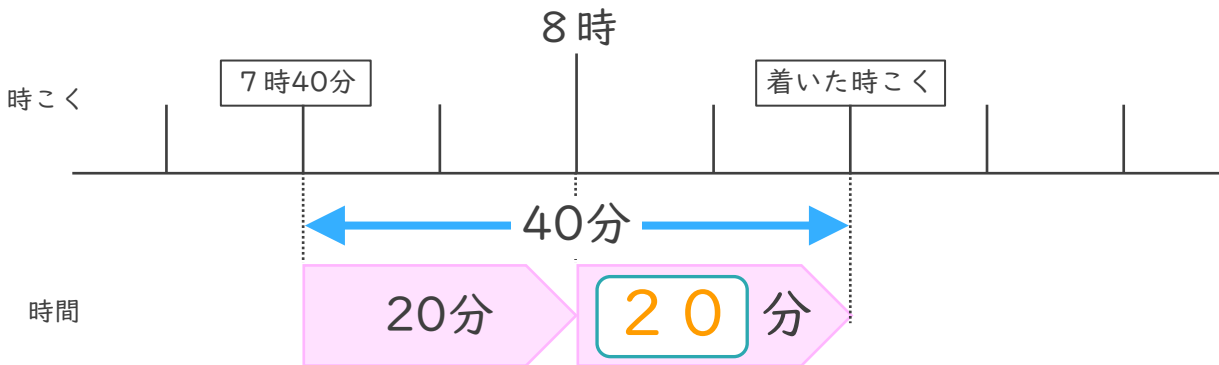


① にあてはまる数を書きましょう。

② 公民館に着いた時こくは何時何分ですか。

答え (午後 5 時 2 0 分)

2 家を午前7時40分に出て、40分歩くと公園に着きました。



① にあてはまる数を書きましょう。

② 公園に着いた時こくは何時何分ですか。

答え (午前 8 時 2 0 分)

