



時こくと時間の
もとめかた 8

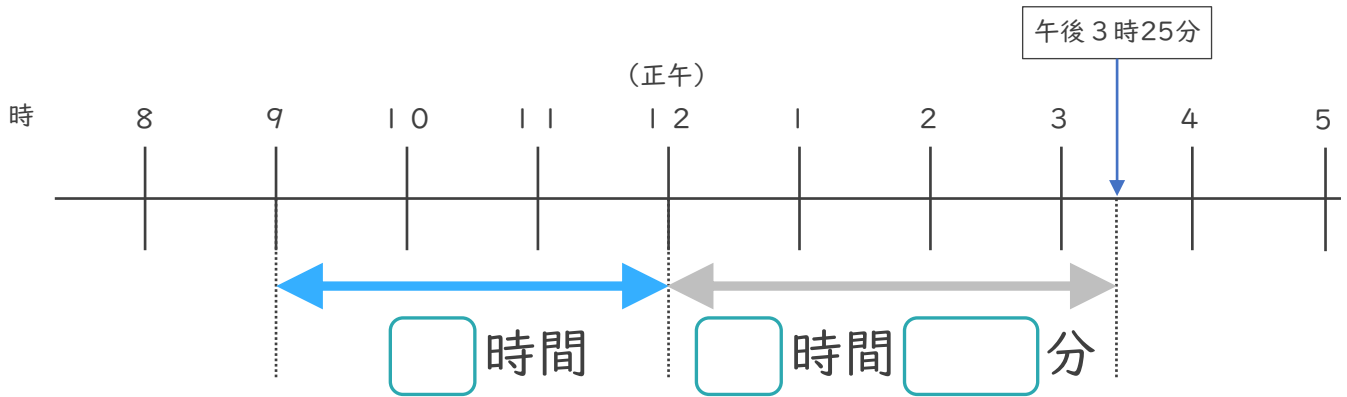


● 正午をはさむ計算

日にち： 月 日

名まえ _____

1 午前9時から午後3時25分までの時間をもとめます。

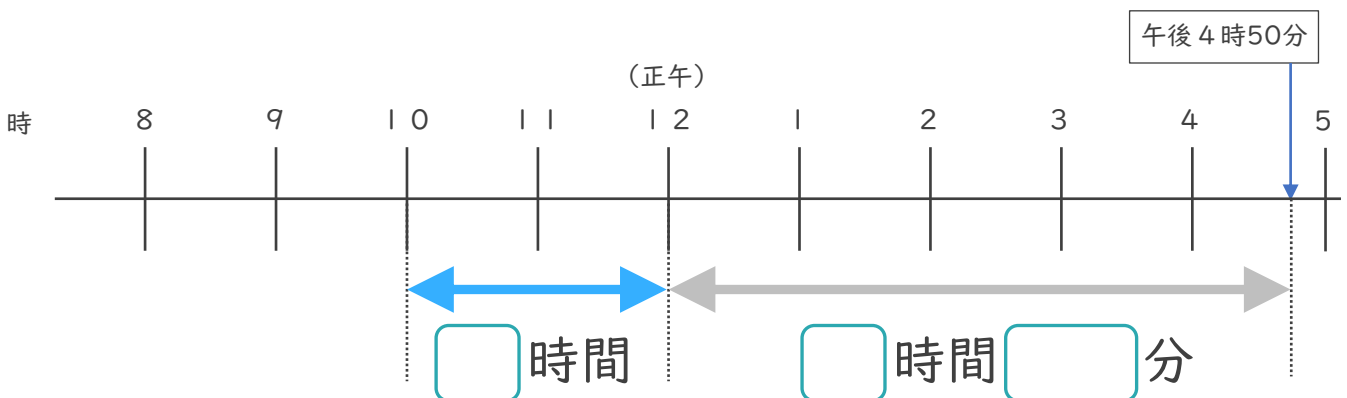


① □にあてはまる数を書きましょう。

② 午前9時から午後3時25分までの時間は何時間何分ですか。

答え ()

2 午前10時から午後4時50分までの時間をもとめます。



① □にあてはまる数を書きましょう。

② 午前10時から午後4時50分までの時間は何時間何分ですか。

答え ()





時こくと時間の
もとめかた 8

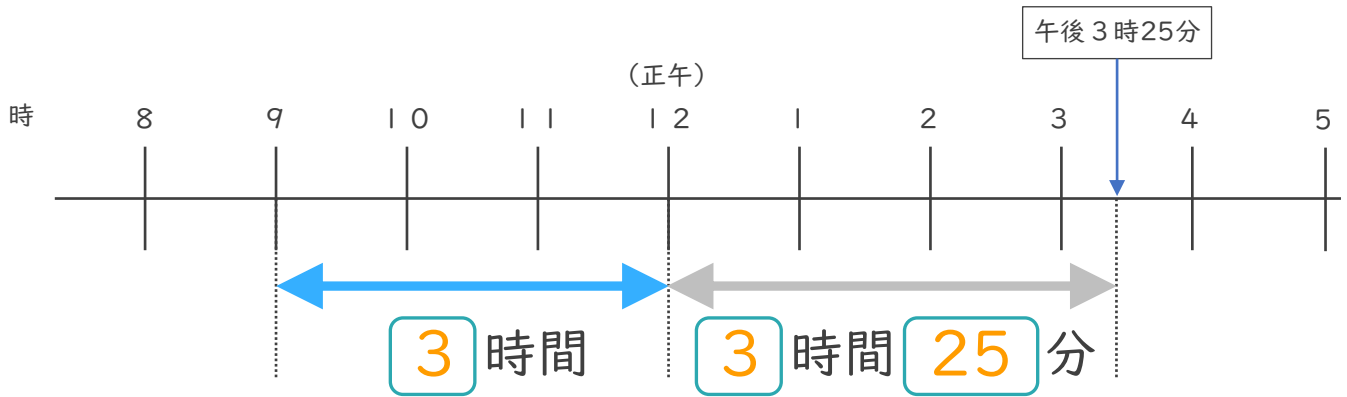


● 正午をはさむ計算

日にち： 月 日

名まえ _____

1 午前9時から午後3時25分までの時間をもとめます。

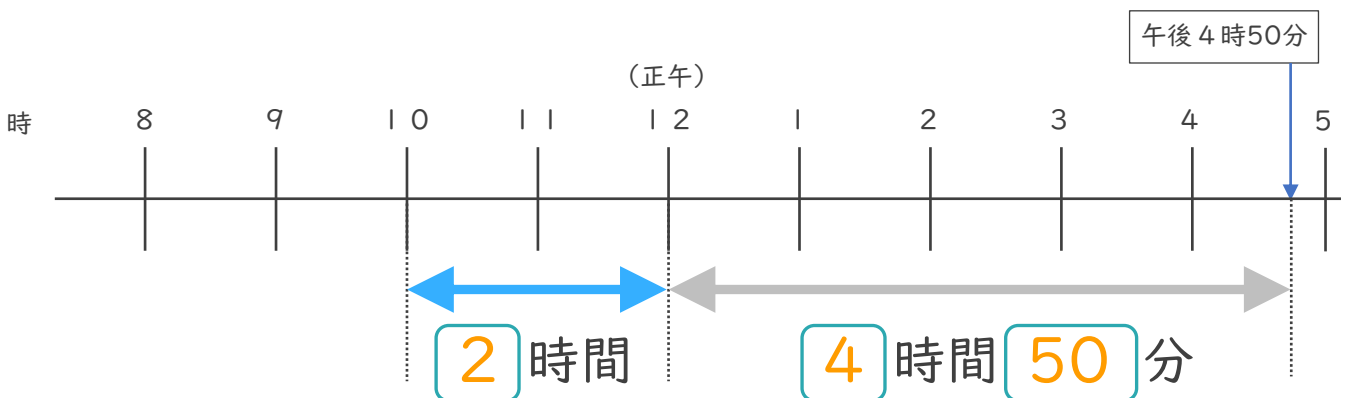


① にあてはまる数を書きましょう。

② 午前9時から午後3時25分までの時間は何時間何分ですか。

答え (**6時間25分**)

2 午前10時から午後4時50分までの時間をもとめます。



① にあてはまる数を書きましょう。

② 午前10時から午後4時50分までの時間は何時間何分ですか。

答え (**6時間50分**)

