



時こくと時間の  
もとめかた 8

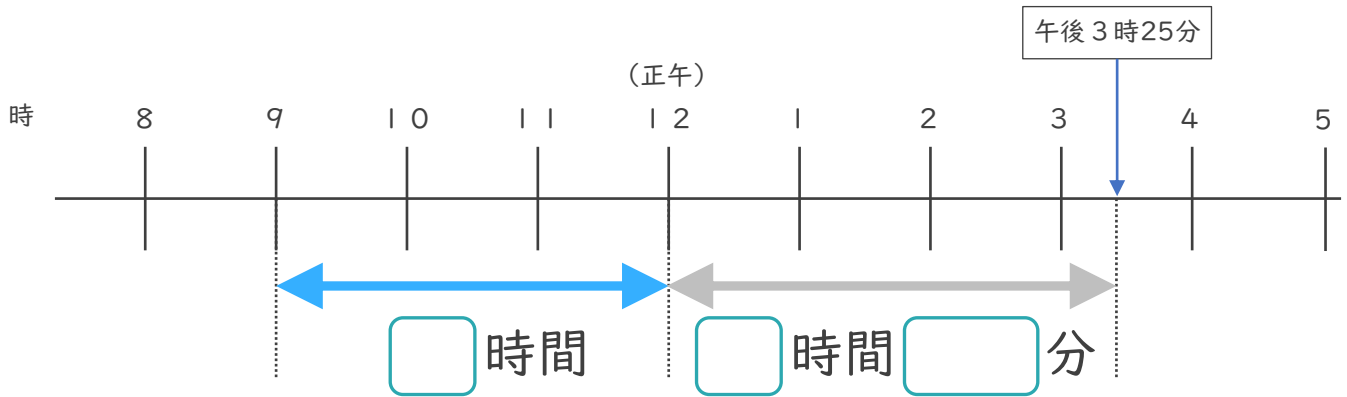


● 正午をはさむ計算

日にち： 月 日

名まえ \_\_\_\_\_

1 午前9時から午後3時25分までの時間をもとめます。

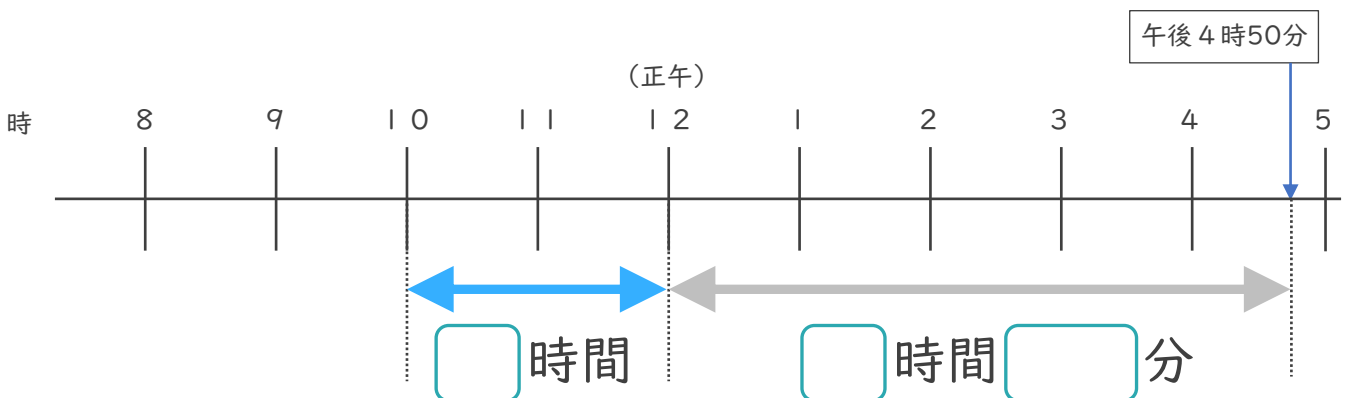


① □にあてはまる数を書きましょう。

② 午前9時から午後3時25分までの時間は何時間何分ですか。

答え ( )

2 午前10時から午後4時50分までの時間をもとめます。



① □にあてはまる数を書きましょう。

② 午前10時から午後4時50分までの時間は何時間何分ですか。

答え ( )



時こくと時間の  
もとめかた 8

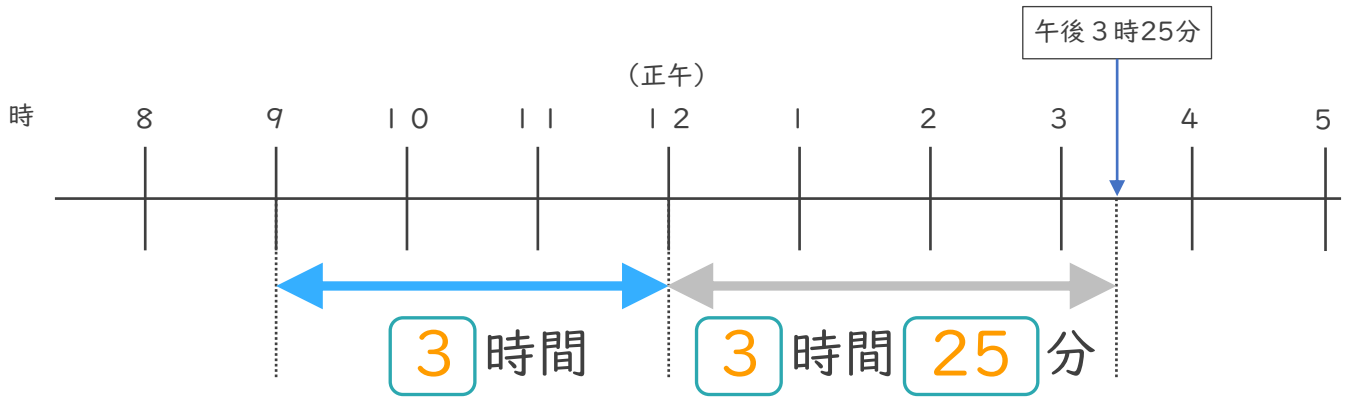
6

● 正午をはさむ計算

日にち： 月 日

名まえ \_\_\_\_\_

1 午前9時から午後3時25分までの時間をもとめます。

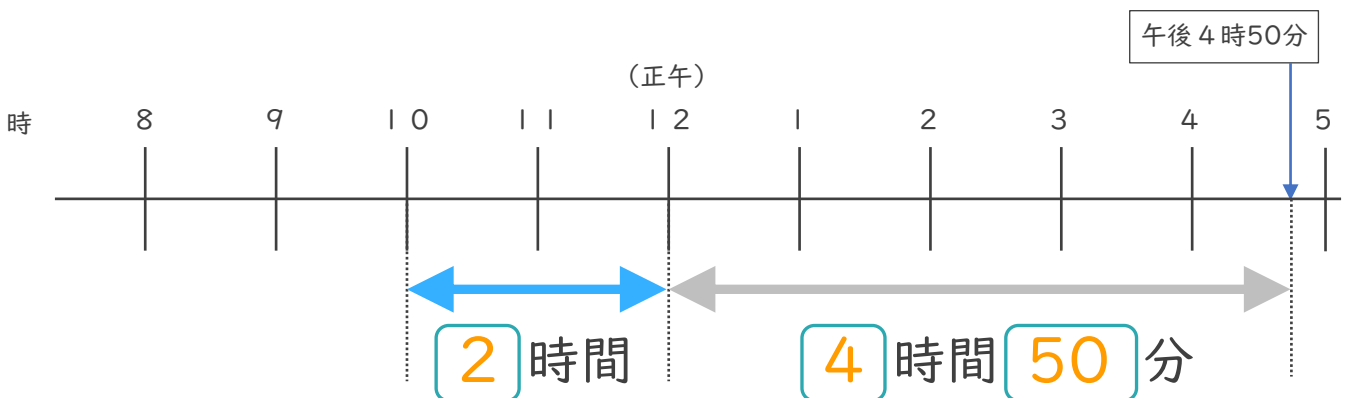


①  にあてはまる数を書きましょう。

② 午前9時から午後3時25分までの時間は何時間何分ですか。

答え ( 6 時間 2 5 分 )

2 午前10時から午後4時50分までの時間をもとめます。



①  にあてはまる数を書きましょう。

② 午前10時から午後4時50分までの時間は何時間何分ですか。

答え ( 6 時間 5 0 分 )

