



円と球 10

● 球の半径や直径の長さ

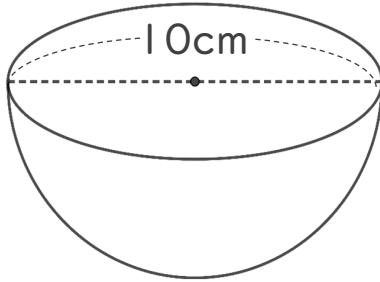


日にち： 月 日

名まえ _____

・ 次の球の半径や直径は何cmですか。(うすい字は、なぞりましょう。)

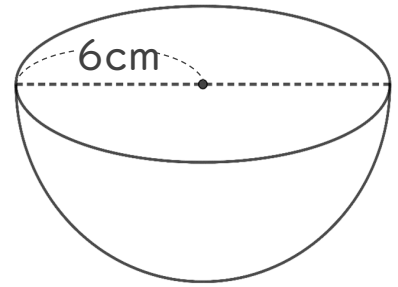
① 半径は何cmですか。



式： $10 \div 2 =$

答え： _____

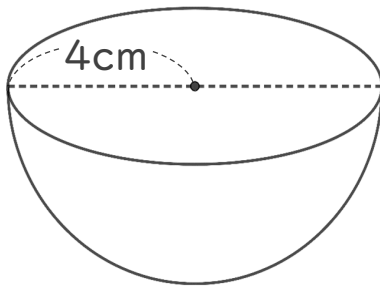
③ 直径は何cmですか。



式：

答え： _____

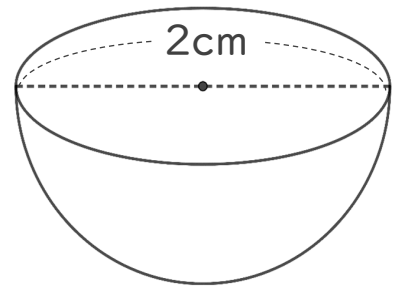
② 直径は何cmですか。



式：

答え： _____

④ 半径は何cmですか。



式：

答え： _____



円と球 10

● 球の半径や直径の長さ

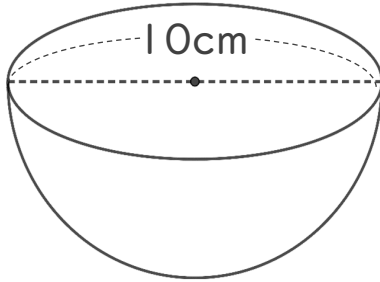


日にち： 月 日

名まえ _____

・ 次の球の半径や直径は何cmですか。(うすい字は、なぞりましょう。)

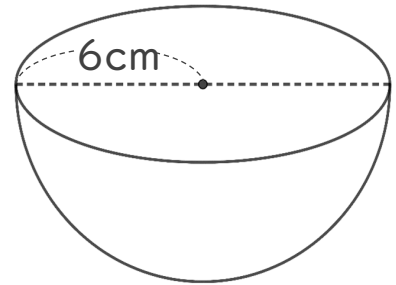
① 半径は何cmですか。



式： $10 \div 2 = 5$

答え：5 cm

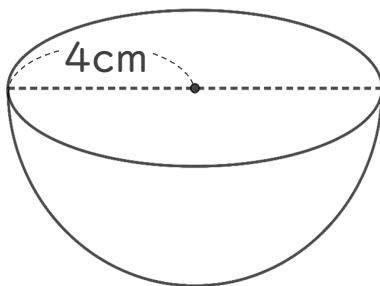
③ 直径は何cmですか。



式： $6 \times 2 = 12$

答え：12 cm

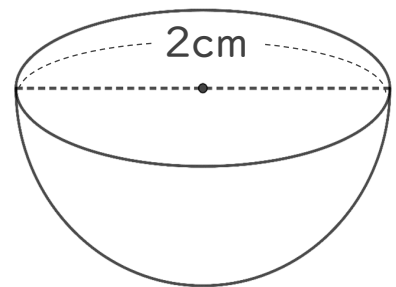
② 直径は何cmですか。



式： $4 \times 2 = 8$

答え：8 cm

④ 半径は何cmですか。



式： $2 \div 2 = 1$

答え：1 cm