



## 円と球 5

◎ 直径の長さから円をかく



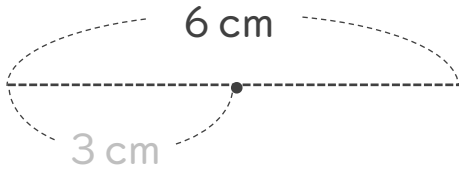
日にち：            月            日

名まえ \_\_\_\_\_

- ・コンパスを使って、次の円をかきましょう。  
(うすい字はなぞりましょう。)

① 直径が 6 cm の円

半径は 3 cm



② 直径が 4 cm の円

半径は            cm





## 円と球 5

◎ 直径の長さから円をかく

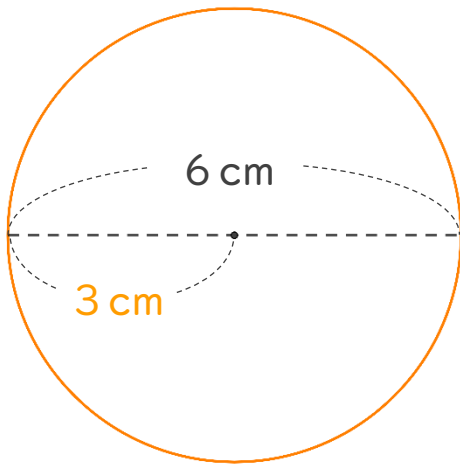


日にち：            月            日

名まえ \_\_\_\_\_

- ・コンパスを使って、次の円をかきましょう。  
(うすい字はなぞりましょう。)

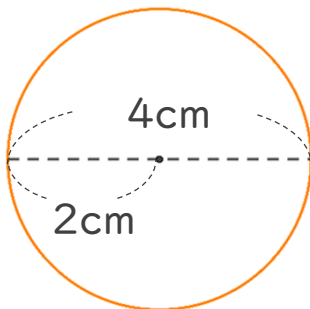
① 直径が 6 cm の円



半径は 3 cm

円をかいたら  
直径が 6 cm かも  
チェックしよう！

② 直径が 4 cm の円



半径は 2 cm

円をかいたら  
直径が 4 cm かも  
チェックしよう！