


重さのたんいと  
はかりかた2 **6**  
◎ 重り何こ分？

日にち： 月 日

名まえ \_\_\_\_\_

・いろいろなものの重さを、おもりを使って表します。  
(うすい字はなぞりましょう。)


① クリップとのはりは、どちらの方がおもり何こ分重いといえますか。



答え： のりの方が


---

② けしゴムと電池は、どちらの方がおもり何こ分重いといえますか。



答え：

---




重さのたんいと  
はかりかた2 **6**  
◎ 重り何こ分？

日にち：      月      日

名まえ \_\_\_\_\_


・いろいろなものの重さを、おもりを使って表します。  
(うすい字はなぞりましょう。)

① クリップとのりは、どちらの方がおもり何こ分重いといえますか。



答え： のりの方が1こ分重い

② けしゴムと電池は、どちらの方がおもり何こ分重いといえますか。



答え： けしゴムの方が2こ分重い

