



# 長いものの長さの はかり方と表し方 3

● 長さをはかる道具

# 6

日にち：          月          日

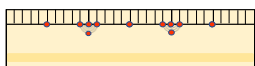
名まえ \_\_\_\_\_

・ 次の長さをはかります。①、②、③ のどれを使いますか。

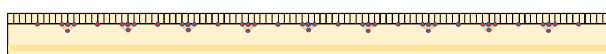
① まきじゃく



② 30cmものさし



③ 1mものさし



① 教室のたての長さ

答え (                      )

② はがきのたての長さ

答え (                      )

③ ドラムかんのまわりの長さ

答え (                      )

④ つくえの横の長さ

答え (                      )





# 長いものの長さの はかり方と表し方 3

● 長さをはかる道具

# 6

日にち：            月            日

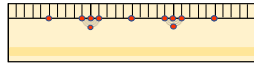
名まえ \_\_\_\_\_

・ 次の長さをはかります。①、②、③ のどれを使いますか。

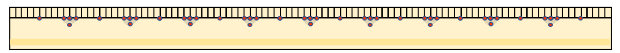
① まきじゃく



② 30cmものさし



③ 1mものさし



① 教室のたての長さ

答え (      ①      )

② はがきのたての長さ

答え (      ②      )

③ ドラムかんのまわりの長さ

答え (      ①      )

④ つくえの横の長さ

答え (      ③      )

