



分数 8

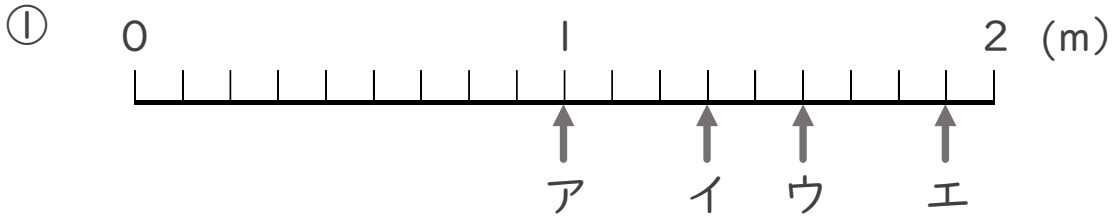
● 1より大きい分数を数直線に表す



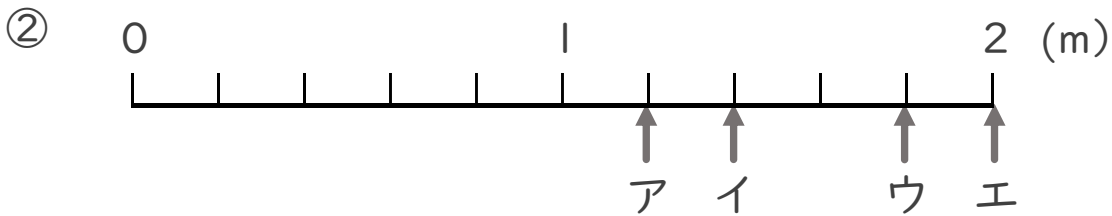
日にち： 月 日

名まえ _____

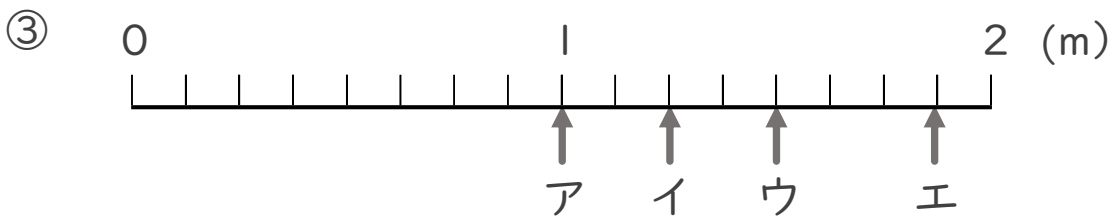
・ ア～エのめもりが表す長さは、それぞれ何mですか。



答え ア 1 m イ $\frac{12}{9}$ m ウ $\frac{14}{9}$ m エ $\frac{17}{9}$ m



答え ア $\frac{6}{5}$ m イ $\frac{7}{5}$ m ウ $\frac{9}{5}$ m エ 2 m



答え ア 1 m イ $\frac{10}{8}$ m ウ $\frac{12}{8}$ m エ $\frac{15}{8}$ m