



# 分数 7

● 1より小さい分数を  
数直線に表す

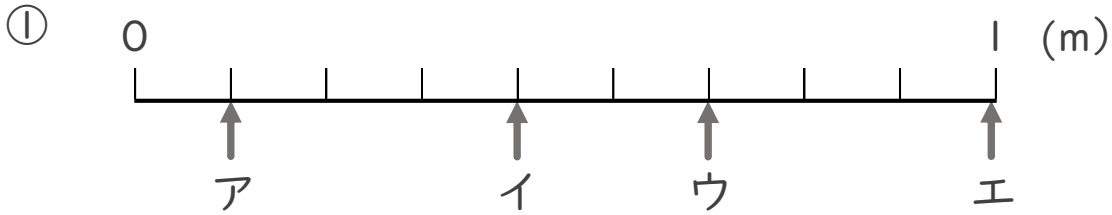


日にち： 月 日

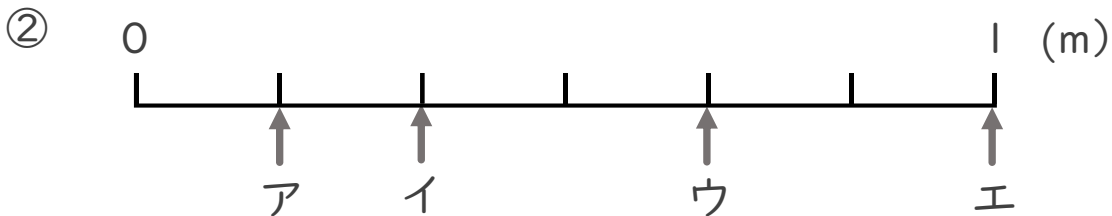
名まえ \_\_\_\_\_

・ ア～エのめもりが表す長さは、それぞれ何mですか。

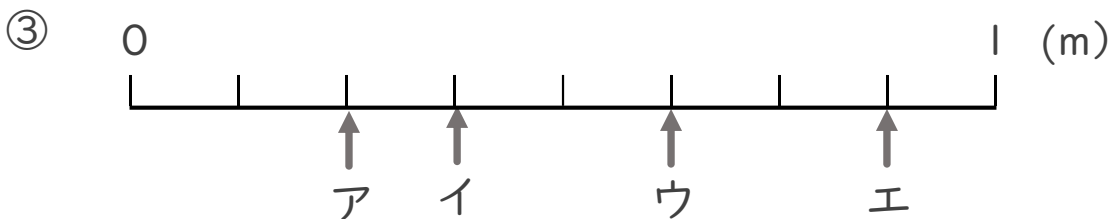
(うすい字はなぞりましょう。)



答え ア  $\frac{1}{9}$  m イ  $\frac{2}{9}$  m ウ  $\frac{3}{9}$  m エ  $\frac{4}{9}$  m



答え ア  $\frac{1}{4}$  m イ  $\frac{2}{4}$  m ウ  $\frac{3}{4}$  m エ  $\frac{4}{4}$  m



答え ア  $\frac{1}{5}$  m イ  $\frac{2}{5}$  m ウ  $\frac{3}{5}$  m エ  $\frac{4}{5}$  m



# 分数 7

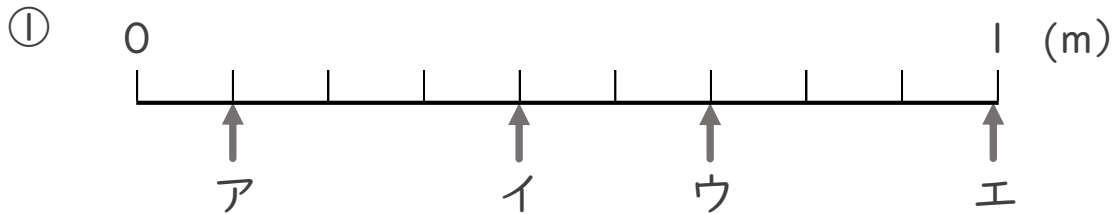
1より小さい分数を  
数直線に表す



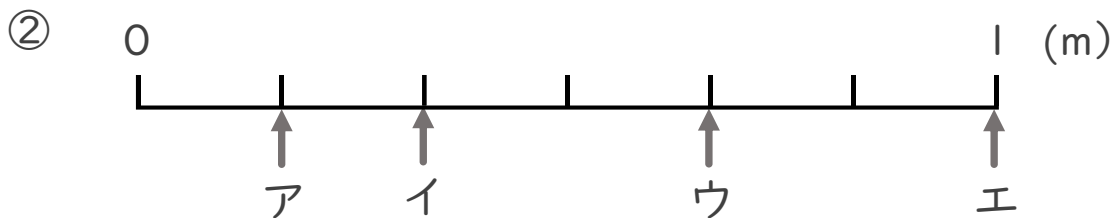
日にち： 月 日

名まえ \_\_\_\_\_

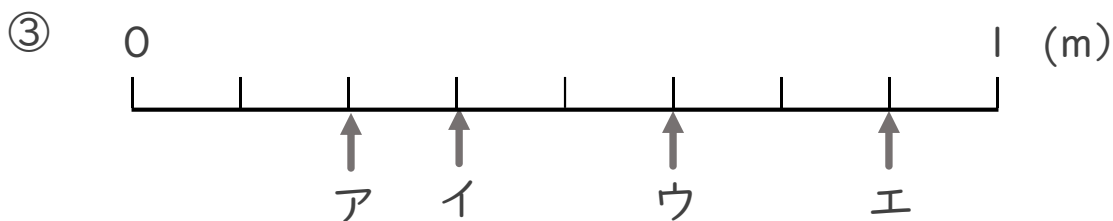
- ア～エのめもりが表す長さは、それぞれ何mですか。  
(うすい字はなぞりましょう。)



答え ア  $\frac{1}{9}$  m イ  $\frac{4}{9}$  m ウ  $\frac{6}{9}$  m エ 1 m



答え ア  $\frac{1}{6}$  m イ  $\frac{2}{6}$  m ウ  $\frac{4}{6}$  m エ 1 m



答え ア  $\frac{2}{8}$  m イ  $\frac{3}{8}$  m ウ  $\frac{5}{8}$  m エ  $\frac{7}{8}$  m