



分数 7

1より小さい分数を
数直線に表す

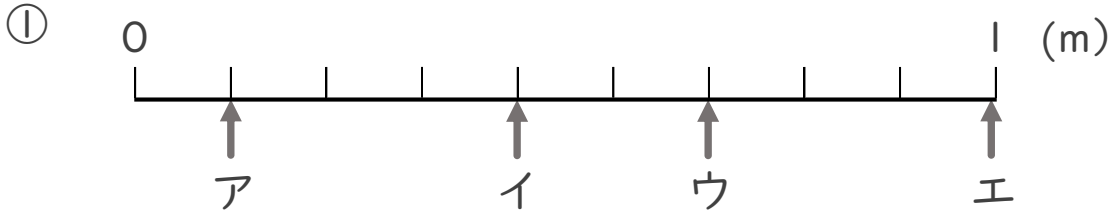


日にち： 月 日

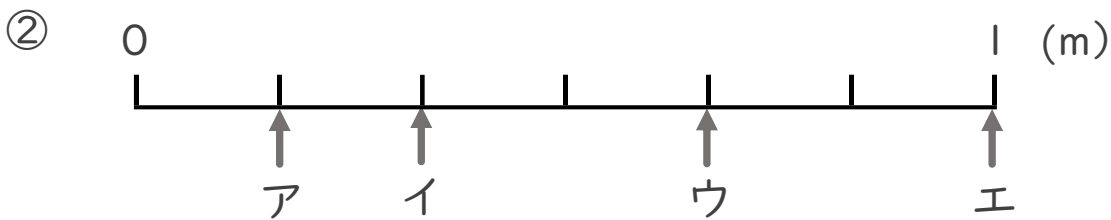
名まえ _____

- ア～エのめもりが表す長さは、それぞれ何mですか。

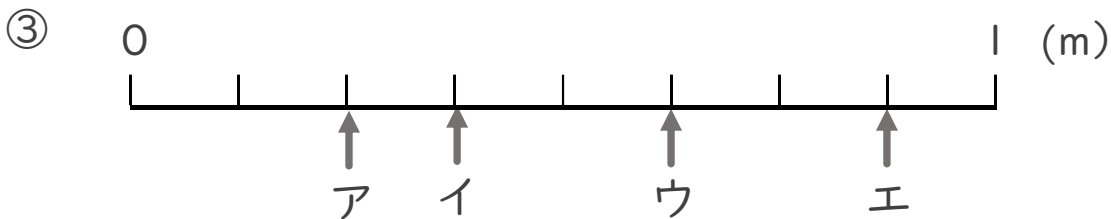
(うすい字はなぞりましょう。)



答え ア $\frac{1}{9}$ m イ $\frac{4}{9}$ m ウ $\frac{6}{9}$ m エ 1 m



答え ア $\frac{1}{6}$ m イ $\frac{2}{6}$ m ウ $\frac{4}{6}$ m エ 1 m



答え ア $\frac{2}{8}$ m イ $\frac{3}{8}$ m ウ $\frac{5}{8}$ m エ $\frac{7}{8}$ m