



# 大きい数のしくみ 9

● 1万の位の数直線



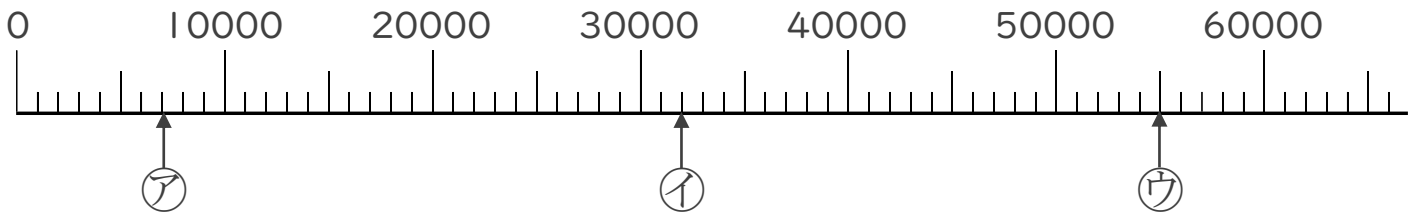
日にち：            月            日

名まえ \_\_\_\_\_

1 ㉠、㉡、㉢のめもりが表している数を [            ] に書きましょう。

(うすい字はなぞりましょう。)

①

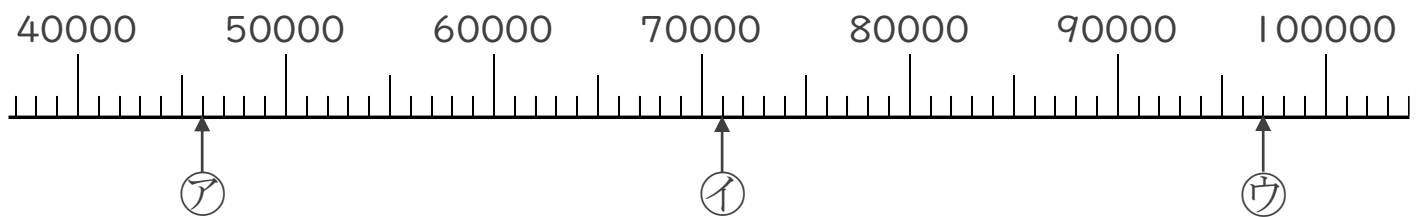


[ 7000 ]

[            ]

[            ]

②



[            ]

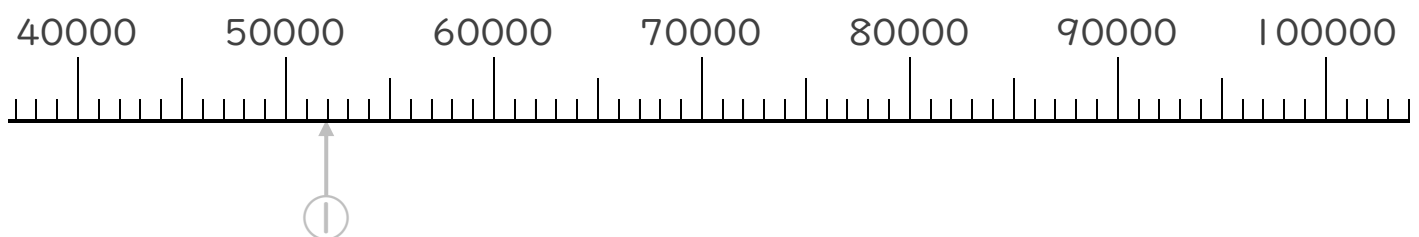
[            ]

[            ]

2 次の数を表すめもりに、↑ を書きましょう。

(うすい字はなぞりましょう。)

① 52000    ② 88000





# 大きい数のしくみ 9

● 1万の位の数直線



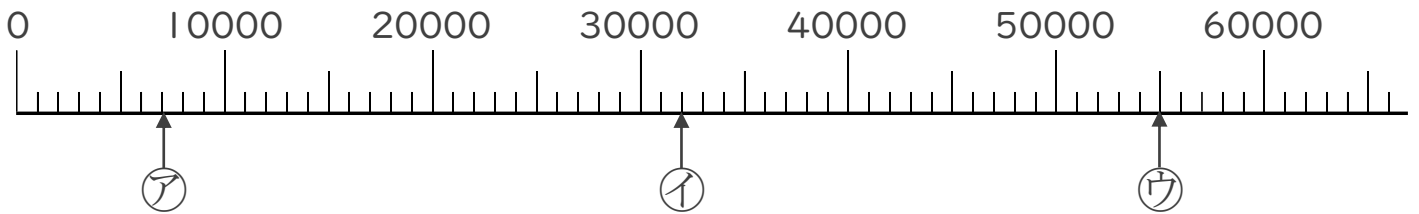
日にち：      月      日

名まえ \_\_\_\_\_

1 ㉠、㉡、㉢のめもりが表している数を [      ] に書きましょう。

(うすい字はなぞりましょう。)

①

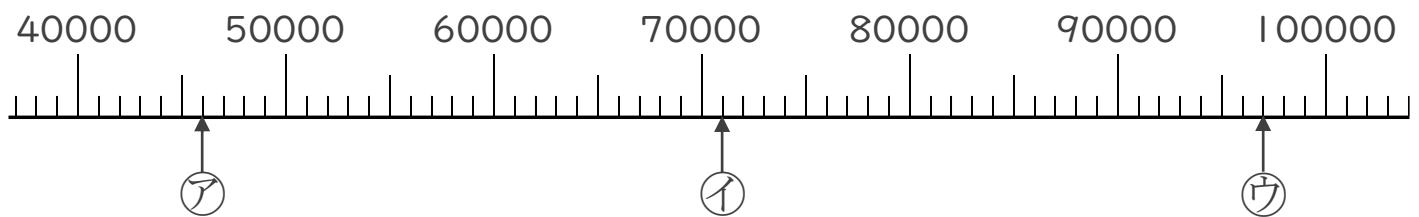


[ 7000 ]

[ 32000 ]

[ 55000 ]

②



[ 46000 ]

[ 71000 ]

[ 97000 ]

2 次の数を表すめもりに、↑ を書きましょう。

(うすい字はなぞりましょう。)

① 52000    ② 88000

