



時こくと時間の
もとめかた 10

○分前の時こく (数直線)

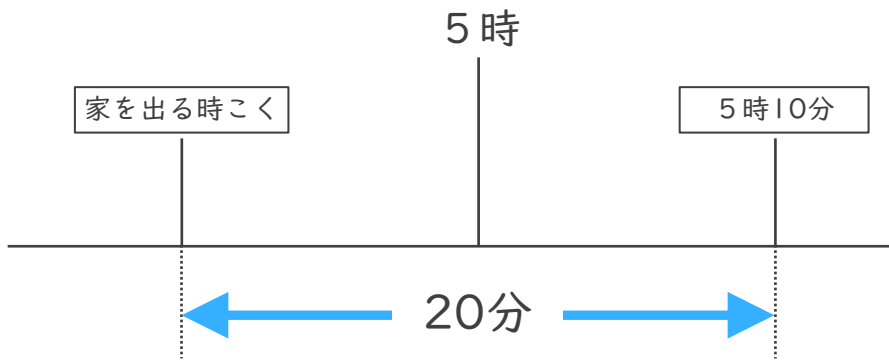


日にち： 月 日

名まえ _____

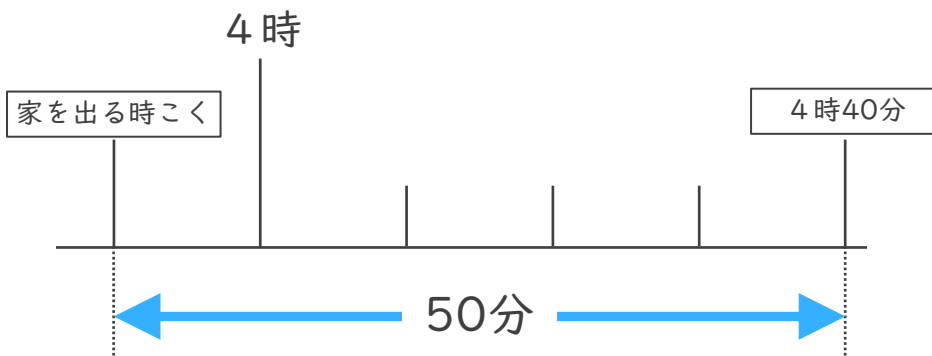
・ 次の問いに答えましょう。

- ① はるかさんの家から学校まで20分かかります。5時10分までに学校に着くためには、おそくとも何時何分までに家を出なければならないでしょうか。



答え ()

- ② あいさんの家から公園まで50分かかります。4時40分までに公園に着くためには、おそくとも何時何分までに家を出なければならないでしょうか。



答え ()



時こくと時間の
もとめかた 10

○分前の時こく (数直線)

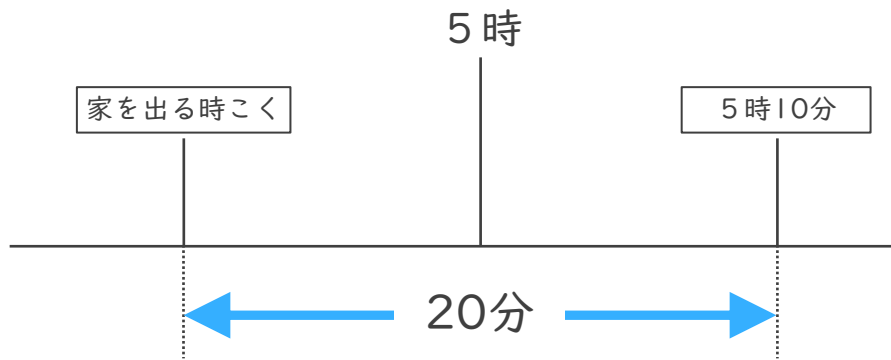


日にち： 月 日

名まえ _____

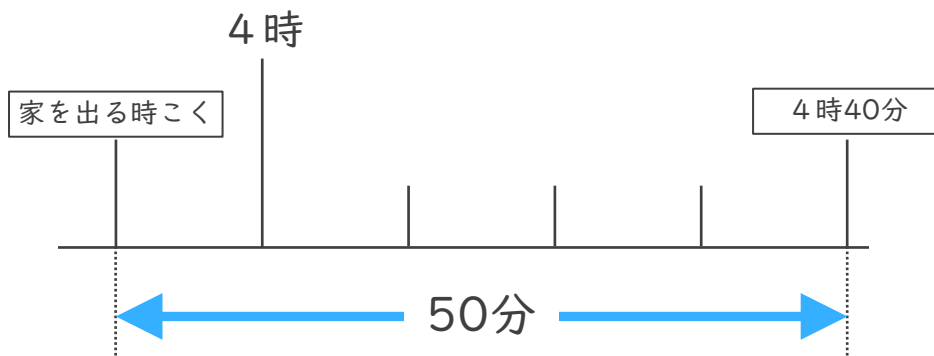
・ 次の問いに答えましょう。

- ① はるかさんの家から学校まで20分かかります。5時10分までに学校に着くためには、おそくとも何時何分までに家を出なければならないでしょうか。



答え (4時50分)

- ② あいさんの家から公園まで50分かかります。4時40分までに公園に着くためには、おそくとも何時何分までに家を出なければならないでしょうか。



答え (3時50分)