





時こくと時間の  
もとめかた 13

○分+△分 (時間の和)

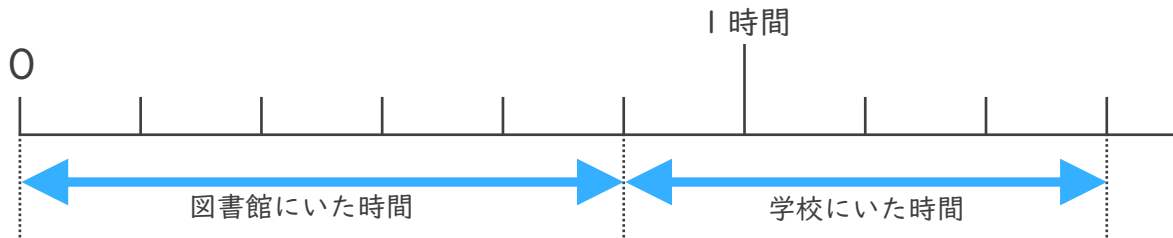


日にち：            月            日

名まえ \_\_\_\_\_

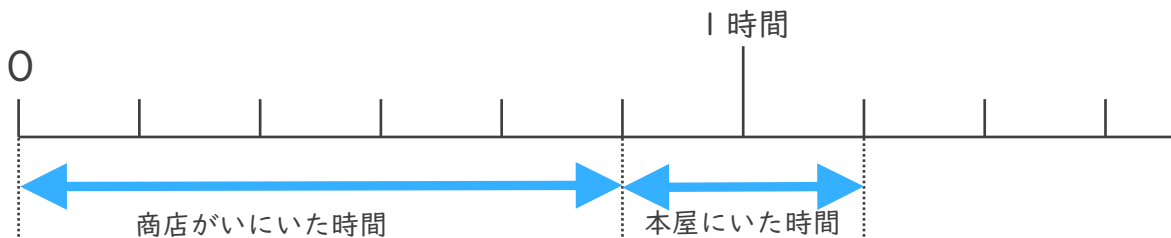
・ 次の問いに答えましょう。

- ① 図書館としょかんにいた時間は50分、学校がっこうにいた時間は40分です。あわせて何時間何分ですか。



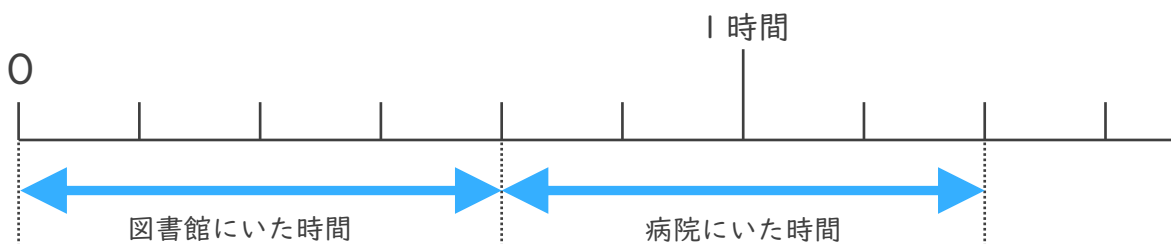
答え (            **1 時間 3 0 分**            )

- ② 商店しょうてんがいがいにいた時間は50分、本屋ほんやにいた時間は20分です。あわせて何時間何分ですか。



答え (            **1 時間 1 0 分**            )

- ③ 図書館としょかんにいた時間は40分、病院びょういんにいた時間は40分です。あわせて何時間何分ですか。



答え (            **1 時間 2 0 分**            )

